

МИНИСТЕРСТВО ПРОСВЕЩЕНИЯ РОССИЙСКОЙ ФЕДЕРАЦИИ

Министерство образования Оренбургской области

Управление образования администрации г. Оренбурга

МОАУ "СОШ № 24"

РАССМОТРЕНО

Педагогический совет

Протокол № 1

от «30» 08 2024 г.

УТВЕРЖДЕНО

Директор

Дегтярева М.В.

Приказ № 171
от «30» 08 2024 г.

РАБОЧАЯ ПРОГРАММА

(ID 4678758)

учебного предмета «Физика. Базовый уровень»

для обучающихся 7-9 классов

Оренбург2024

ПОЯСНИТЕЛЬНАЯ ЗАПИСКА

Программа по физике на уровне основного общего образования составлена на основе положений и требований к результатам освоения на базовом уровне основной образовательной программы, представленных в ФГОС ООО, а также с учётом федеральной рабочей программы воспитания и Концепции преподавания учебного предмета «Физика».

Содержание программы по физике направлено на формирование естественнонаучной грамотности обучающихся и организацию изучения физики на деятельностной основе. В программе по физике учитываются возможности учебного предмета в реализации требований ФГОС ООО к планируемым личностным и метапредметным результатам обучения, а также межпредметные связи естественнонаучных учебных предметов на уровне основного общего образования.

Программа по физике устанавливает распределение учебного материала по годам обучения (по классам), предлагает примерную последовательность изучения тем, основанную на логике развития предметного содержания и учёте возрастных особенностей обучающихся.

Программа по физике разработана с целью оказания методической помощи учителю в создании рабочей программы по учебному предмету.

Физика является системообразующим для естественнонаучных учебных предметов, поскольку физические законы лежат в основе процессов и явлений, изучаемых химией, биологией, астрономией и физической географией, вносит вклад в естественнонаучную картину мира, предоставляет наиболее ясные образцы применения научного метода познания, то есть способа получения достоверных знаний о мире.

Одна из главных задач физического образования в структуре общего образования состоит в формировании естественнонаучной грамотности и интереса к науке у обучающихся.

Изучение физики на базовом уровне предполагает овладение следующими компетентностями, характеризующими естественнонаучную грамотность:

- научно объяснять явления;
- оценивать и понимать особенности научного исследования;
- интерпретировать данные и использовать научные доказательства для получения выводов.

Цели изучения физики на уровне основного общего образования определены в Концепции преподавания учебного предмета «Физика» в образовательных организациях Российской Федерации, реализующих основные общеобразовательные программы, утверждённой решением

Коллегии Министерства просвещения Российской Федерации (протокол от 3 декабря 2019 г. № ПК4вн).

Цели изучения физики:

- приобретение интереса и стремления обучающихся к научному изучению природы, развитие их интеллектуальных и творческих способностей;
- развитие представлений о научном методе познания и формирование исследовательского отношения к окружающим явлениям;
- формирование научного мировоззрения как результата изучения основ строения материи и фундаментальных законов физики;
- формирование представлений о роли физики для развития других естественных наук, техники и технологий;
- развитие представлений о возможных сферах будущей профессиональной деятельности, связанной с физикой, подготовка к дальнейшему обучению в этом направлении.

Достижение этих целей программы по физике на уровне основного общего образования обеспечивается решением следующих **задач**:

- приобретение знаний о дискретном строении вещества, о механических, тепловых, электрических, магнитных и квантовых явлениях;
- приобретение умений описывать и объяснять физические явления с использованием полученных знаний;
- освоение методов решения простейших расчётных задач с использованием физических моделей, творческих и практикоориентированных задач;
- развитие умений наблюдать природные явления и выполнять опыты, лабораторные работы и экспериментальные исследования с использованием измерительных приборов;
- освоение приёмов работы с информацией физического содержания, включая информацию о современных достижениях физики, анализ и критическое оценивание информации;
- знакомство со сферами профессиональной деятельности, связанными с физикой, и современными технологиями, основанными на достижениях физической науки.

На изучение физики (базовый уровень) на уровне основного общего образования отводится 238 часов: в 7 классе – 68 часов (2 часа в неделю), в 8 классе – 68 часов (2 часа в неделю), в 9 классе – 102 часа (3 часа в неделю).

Предлагаемый в программе по физике перечень лабораторных работ и опытов носит рекомендательный характер, учитель делает выбор проведения

лабораторных работ и опытов с учётом индивидуальных особенностей обучающихся, списка экспериментальных заданий, предлагаемых в рамках основного государственного экзамена по физике.

СОДЕРЖАНИЕ ОБУЧЕНИЯ

7 КЛАСС

Раздел 1. Физика и её роль в познании окружающего мира.

Физика – наука о природе. Явления природы. Физические явления: механические, тепловые, электрические, магнитные, световые, звуковые.

Физические величины. Измерение физических величин. Физические приборы. Погрешность измерений. Международная система единиц.

Как физика и другие естественные науки изучают природу. Естественнаучный метод познания: наблюдение, постановка научного вопроса, выдвижение гипотез, эксперимент по проверке гипотез, объяснение наблюдаемого явления. Описание физических явлений с помощью моделей.

Демонстрации.

1. Механические, тепловые, электрические, магнитные, световые явления.
2. Физические приборы и процедура прямых измерений аналоговым и цифровым прибором.

Лабораторные работы и опыты.

1. Определение цены деления шкалы измерительного прибора.
2. Измерение расстояний.
3. Измерение объёма жидкости и твёрдого тела.
4. Определение размеров малых тел.
5. Измерение температуры при помощи жидкостного термометра и датчика температуры.
6. Проведение исследования по проверке гипотезы: дальность полёта шарика, пущенного горизонтально, тем больше, чем больше высота пуска.

Раздел 2. Первоначальные сведения о строении вещества.

Строение вещества: атомы и молекулы, их размеры. Опыты, доказывающие дискретное строение вещества.

Движение частиц вещества. Связь скорости движения частиц с температурой. Броуновское движение, диффузия. Взаимодействие частиц вещества: притяжение и отталкивание.

Агрегатные состояния вещества: строение газов, жидкостей и твёрдых (кристаллических) тел. Взаимосвязь между свойствами веществ в разных агрегатных состояниях и их атомномолекулярным строением. Особенности агрегатных состояний воды.

Демонстрации.

1. Наблюдение броуновского движения.

2. Наблюдение диффузии.
3. Наблюдение явлений, объясняющихся притяжением или отталкиванием частиц вещества.

Лабораторные работы и опыты.

1. Оценка диаметра атома методом рядов (с использованием фотографий).
2. Опыты по наблюдению теплового расширения газов.
3. Опыты по обнаружению действия сил молекулярного притяжения.

Раздел 3. Движение и взаимодействие тел.

Механическое движение. Равномерное и неравномерное движение. Скорость. Средняя скорость при неравномерном движении. Расчёт пути и времени движения.

Явление инерции. Закон инерции. Взаимодействие тел как причина изменения скорости движения тел. Масса как мера инертности тела. Плотность вещества. Связь плотности с количеством молекул в единице объёма вещества.

Сила как характеристика взаимодействия тел. Сила упругости и закон Гука. Измерение силы с помощью динамометра. Явление тяготения и сила тяжести. Сила тяжести на других планетах. Вес тела. Невесомость. Сложение сил, направленных по одной прямой. Равнодействующая сил. Сила трения. Трение скольжения и трение покоя. Трение в природе и технике.

Демонстрации.

1. Наблюдение механического движения тела.
2. Измерение скорости прямолинейного движения.
3. Наблюдение явления инерции.
4. Наблюдение изменения скорости при взаимодействии тел.
5. Сравнение масс по взаимодействию тел.
6. Сложение сил, направленных по одной прямой.

Лабораторные работы и опыты.

1. Определение скорости равномерного движения (шарика в жидкости, модели электрического автомобиля и так далее).
2. Определение средней скорости скольжения бруска или шарика по наклонной плоскости.
3. Определение плотности твёрдого тела.
4. Опыты, демонстрирующие зависимость растяжения (деформации) пружины от приложенной силы.
5. Опыты, демонстрирующие зависимость силы трения скольжения от веса тела и характера соприкасающихся поверхностей.

Раздел 4. Давление твёрдых тел, жидкостей и газов.

Давление. Способы уменьшения и увеличения давления. Давление газа. Зависимость давления газа от объёма, температуры. Передача давления твёрдыми телами, жидкостями и газами. Закон Паскаля. Пневматические машины. Зависимость давления жидкости от глубины. Гидростатический парадокс. Сообщающиеся сосуды. Гидравлические механизмы.

Атмосфера Земли и атмосферное давление. Причины существования воздушной оболочки Земли. Опыт Торричелли. Измерение атмосферного давления. Зависимость атмосферного давления от высоты над уровнем моря. Приборы для измерения атмосферного давления.

Действие жидкости и газа на погружённое в них тело. Выталкивающая (архимедова) сила. Закон Архимеда. Плавание тел. Воздухоплавание.

Демонстрации.

1. Зависимость давления газа от температуры.
2. Передача давления жидкостью и газом.
3. Сообщающиеся сосуды.
4. Гидравлический пресс.
5. Проявление действия атмосферного давления.
6. Зависимость выталкивающей силы от объёма погружённой части тела и плотности жидкости.
7. Равенство выталкивающей силы весу вытесненной жидкости.
8. Условие плавания тел: плавание или погружение тел в зависимости от соотношения плотностей тела и жидкости.

Лабораторные работы и опыты.

1. Исследование зависимости веса тела в воде от объёма погружённой в жидкость части тела.
2. Определение выталкивающей силы, действующей на тело, погружённое в жидкость.
3. Проверка независимости выталкивающей силы, действующей на тело в жидкости, от массы тела.
4. Опыты, демонстрирующие зависимость выталкивающей силы, действующей на тело в жидкости, от объёма погружённой в жидкость части тела и от плотности жидкости.
5. Конструирование ареометра или конструирование лодки и определение её грузоподъёмности.

Раздел 5. Работа и мощность. Энергия.

Механическая работа. Мощность.

Простые механизмы: рычаг, блок, наклонная плоскость. Правило равновесия рычага. Применение правила равновесия рычага к блоку.

«Золотое правило» механики. КПД простых механизмов. Простые механизмы в быту и технике.

Механическая энергия. Кинетическая и потенциальная энергия. Превращение одного вида механической энергии в другой. Закон сохранения энергии в механике.

Демонстрации.

1. Примеры простых механизмов.

Лабораторные работы и опыты.

1. Определение работы силы трения при равномерном движении тела по горизонтальной поверхности.
2. Исследование условий равновесия рычага.
3. Измерение КПД наклонной плоскости.
4. Изучение закона сохранения механической энергии.

8 КЛАСС

Раздел 6. Тепловые явления.

Основные положения молекулярно-кинетической теории строения вещества. Масса и размеры атомов и молекул. Опыты, подтверждающие основные положения молекулярнокинетической теории.

Модели твёрдого, жидкого и газообразного состояний вещества. Кристаллические и аморфные тела. Объяснение свойств газов, жидкостей и твёрдых тел на основе положений молекулярно-кинетической теории. Смачивание и капиллярные явления. Тепловое расширение и сжатие.

Температура. Связь температуры со скоростью теплового движения частиц. Внутренняя энергия. Способы изменения внутренней энергии: теплопередача и совершение работы. Виды теплопередачи: теплопроводность, конвекция, излучение.

Количество теплоты. Удельная теплоёмкость вещества. Теплообмен и тепловое равновесие. Уравнение теплового баланса. Плавление и отвердевание кристаллических веществ. Удельная теплота плавления. Парообразование и конденсация. Испарение. Кипение. Удельная теплота парообразования. Зависимость температуры кипения от атмосферного давления.

Влажность воздуха.

Энергия топлива. Удельная теплота сгорания.

Принципы работы тепловых двигателей КПД теплового двигателя. Тепловые двигатели и защита окружающей среды.

Закон сохранения и превращения энергии в тепловых процессах.

Демонстрации.

1. Наблюдение броуновского движения.

2. Наблюдение диффузии.
3. Наблюдение явлений смачивания и капиллярных явлений.
4. Наблюдение теплового расширения тел.
5. Изменение давления газа при изменении объёма и нагревании или охлаждении.
6. Правила измерения температуры.
7. Виды теплопередачи.
8. Охлаждение при совершении работы.
9. Нагревание при совершении работы внешними силами.
10. Сравнение теплоёмкостей различных веществ.
11. Наблюдение кипения.
12. Наблюдение постоянства температуры при плавлении.
13. Модели тепловых двигателей.

Лабораторные работы и опыты.

1. Опыты по обнаружению действия сил молекулярного притяжения.
2. Опыты по выращиванию кристаллов поваренной соли или сахара.
3. Опыты по наблюдению теплового расширения газов, жидкостей и твёрдых тел.
4. Определение давления воздуха в баллоне шприца.
5. Опыты, демонстрирующие зависимость давления воздуха от его объёма и нагревания или охлаждения.
6. Проверка гипотезы линейной зависимости длины столбика жидкости в термометрической трубке от температуры.
7. Наблюдение изменения внутренней энергии тела в результате теплопередачи и работы внешних сил.
8. Исследование явления теплообмена при смешивании холодной и горячей воды.
9. Определение количества теплоты, полученного водой при теплообмене с нагретым металлическим цилиндром.
10. Определение удельной теплоёмкости вещества.
11. Исследование процесса испарения.
12. Определение относительной влажности воздуха.
13. Определение удельной теплоты плавления льда.

Раздел 7. Электрические и магнитные явления.

Электризация тел. Два рода электрических зарядов. Взаимодействие заряженных тел. Закон Кулона (зависимость силы взаимодействия заряженных тел от величины зарядов и расстояния между телами).

Электрическое поле. Напряжённость электрического поля. Принцип суперпозиции электрических полей (на качественном уровне).

Носители электрических зарядов. Элементарный электрический заряд. Строение атома. Проводники и диэлектрики. Закон сохранения электрического заряда.

Электрический ток. Условия существования электрического тока. Источники постоянного тока. Действия электрического тока (тепловое, химическое, магнитное). Электрический ток в жидкостях и газах.

Электрическая цепь. Сила тока. Электрическое напряжение. Сопротивление проводника. Удельное сопротивление вещества. Закон Ома для участка цепи. Последовательное и параллельное соединение проводников.

Работа и мощность электрического тока. Закон Джоуля–Ленца. Электрические цепи и потребители электрической энергии в быту. Короткое замыкание.

Постоянные магниты. Взаимодействие постоянных магнитов. Магнитное поле. Магнитное поле Земли и его значение для жизни на Земле. Опыт Эрстеда. Магнитное поле электрического тока. Применение электромагнитов в технике. Действие магнитного поля на проводник с током. Электродвигатель постоянного тока. Использование электродвигателей в технических устройствах и на транспорте.

Опыты Фарадея. Явление электромагнитной индукции. Правило Ленца. Электрогенератор. Способы получения электрической энергии. Электростанции на возобновляемых источниках энергии.

Демонстрации.

1. Электризация тел.
2. Два рода электрических зарядов и взаимодействие заряженных тел.
3. Устройство и действие электроскопа.
4. Электростатическая индукция.
5. Закон сохранения электрических зарядов.
6. Проводники и диэлектрики.
7. Моделирование силовых линий электрического поля.
8. Источники постоянного тока.
9. Действия электрического тока.
10. Электрический ток в жидкостях.
11. Газовый разряд.
12. Измерение силы тока амперметром.
13. Измерение электрического напряжения вольтметром.
14. Реостат и магазин сопротивлений.
15. Взаимодействие постоянных магнитов.
16. Моделирование невозможности разделения полюсов магнита.

17. Моделирование магнитных полей постоянных магнитов.
18. Опыт Эрстеда.
19. Магнитное поле тока. Электромагнит.
20. Действие магнитного поля на проводник с током.
21. Электродвигатель постоянного тока.
22. Исследование явления электромагнитной индукции.
23. Опыты Фарадея.
24. Зависимость направления индукционного тока от условий его возникновения.
25. Электрогенератор постоянного тока.

Лабораторные работы и опыты.

1. Опыты по наблюдению электризации тел индукцией и при соприкосновении.
2. Исследование действия электрического поля на проводники и диэлектрики.
3. Сборка и проверка работы электрической цепи постоянного тока.
4. Измерение и регулирование силы тока.
5. Измерение и регулирование напряжения.
6. Исследование зависимости силы тока, идущего через резистор, от сопротивления резистора и напряжения на резисторе.
7. Опыты, демонстрирующие зависимость электрического сопротивления проводника от его длины, площади поперечного сечения и материала.
8. Проверка правила сложения напряжений при последовательном соединении двух резисторов.
9. Проверка правила для силы тока при параллельном соединении резисторов.
10. Определение работы электрического тока, идущего через резистор.
11. Определение мощности электрического тока, выделяемой на резисторе.
12. Исследование зависимости силы тока, идущего через лампочку, от напряжения на ней.
13. Определение КПД нагревателя.
14. Исследование магнитного взаимодействия постоянных магнитов.
15. Изучение магнитного поля постоянных магнитов при их объединении и разделении.
16. Исследование действия электрического тока на магнитную стрелку.

17. Опыты, демонстрирующие зависимость силы взаимодействия катушки с током и магнита от силы тока и направления тока в катушке.
18. Изучение действия магнитного поля на проводник с током.
19. Конструирование и изучение работы электродвигателя.
20. Измерение КПД электродвигательной установки.
21. Опыты по исследованию явления электромагнитной индукции: исследование изменений значения и направления индукционного тока.

9 КЛАСС

Раздел 8. Механические явления.

Механическое движение. Материальная точка. Система отсчёта. Относительность механического движения. Равномерное прямолинейное движение. Неравномерное прямолинейное движение. Средняя и мгновенная скорость тела при неравномерном движении.

Ускорение. Равноускоренное прямолинейное движение. Свободное падение. Опыты Галилея.

Равномерное движение по окружности. Период и частота обращения. Линейная и угловая скорости. Центростремительное ускорение.

Первый закон Ньютона. Второй закон Ньютона. Третий закон Ньютона. Принцип суперпозиции сил.

Сила упругости. Закон Гука. Сила трения: сила трения скольжения, сила трения покоя, другие виды трения.

Сила тяжести и закон всемирного тяготения. Ускорение свободного падения. Движение планет вокруг Солнца. Первая космическая скорость. Невесомость и перегрузки.

Равновесие материальной точки. Абсолютно твёрдое тело. Равновесие твёрдого тела с закреплённой осью вращения. Момент силы. Центр тяжести.

Импульс тела. Изменение импульса. Импульс силы. Закон сохранения импульса. Реактивное движение.

Механическая работа и мощность. Работа сил тяжести, упругости, трения. Связь энергии и работы. Потенциальная энергия тела, поднятого над поверхностью земли. Потенциальная энергия сжатой пружины. Кинетическая энергия. Теорема о кинетической энергии. Закон сохранения механической энергии.

Демонстрации.

1. Наблюдение механического движения тела относительно разных тел отсчёта.

2. Сравнение путей и траекторий движения одного и того же тела относительно разных тел отсчёта.
3. Измерение скорости и ускорения прямолинейного движения.
4. Исследование признаков равноускоренного движения.
5. Наблюдение движения тела по окружности.
6. Наблюдение механических явлений, происходящих в системе отсчёта «Тележка» при её равномерном и ускоренном движении относительно кабинета физики.
7. Зависимость ускорения тела от массы тела и действующей на него силы.
8. Наблюдение равенства сил при взаимодействии тел.
9. Изменение веса тела при ускоренном движении.
10. Передача импульса при взаимодействии тел.
11. Преобразования энергии при взаимодействии тел.
12. Сохранение импульса при неупругом взаимодействии.
13. Сохранение импульса при абсолютно упругом взаимодействии.
14. Наблюдение реактивного движения.
15. Сохранение механической энергии при свободном падении.
16. Сохранение механической энергии при движении тела под действием пружины.

Лабораторные работы и опыты.

1. Конструирование тракта для разгона и дальнейшего равномерного движения шарика или тележки.
2. Определение средней скорости скольжения бруска или движения шарика по наклонной плоскости.
3. Определение ускорения тела при равноускоренном движении по наклонной плоскости.
4. Исследование зависимости пути от времени при равноускоренном движении без начальной скорости.
5. Проверка гипотезы: если при равноускоренном движении без начальной скорости пути относятся как ряд нечётных чисел, то соответствующие промежутки времени одинаковы.
6. Исследование зависимости силы трения скольжения от силы нормального давления.
7. Определение коэффициента трения скольжения.
8. Определение жёсткости пружины.
9. Определение работы силы трения при равномерном движении тела по горизонтальной поверхности.

10. Определение работы силы упругости при подъёме груза с использованием неподвижного и подвижного блоков.
11. Изучение закона сохранения энергии.

Раздел 9. Механические колебания и волны.

Колебательное движение. Основные характеристики колебаний: период, частота, амплитуда. Математический и пружинный маятники. Превращение энергии при колебательном движении.

Затухающие колебания. Вынужденные колебания. Резонанс. Механические волны. Свойства механических волн. Продольные и поперечные волны. Длина волны и скорость её распространения. Механические волны в твёрдом теле, сейсмические волны.

Звук. Громкость звука и высота тона. Отражение звука. Инфразвук и ультразвук.

Демонстрации.

1. Наблюдение колебаний тел под действием силы тяжести и силы упругости.
2. Наблюдение колебаний груза на нити и на пружине.
3. Наблюдение вынужденных колебаний и резонанса.
4. Распространение продольных и поперечных волн (на модели).
5. Наблюдение зависимости высоты звука от частоты.
6. Акустический резонанс.

Лабораторные работы и опыты.

1. Определение частоты и периода колебаний математического маятника.
2. Определение частоты и периода колебаний пружинного маятника.
3. Исследование зависимости периода колебаний подвешенного к нити груза от длины нити.
4. Исследование зависимости периода колебаний пружинного маятника от массы груза.
5. Проверка независимости периода колебаний груза, подвешенного к нити, от массы груза.
6. Опыты, демонстрирующие зависимость периода колебаний пружинного маятника от массы груза и жёсткости пружины.
7. Измерение ускорения свободного падения.

Раздел 10. Электромагнитное поле и электромагнитные волны.

Электромагнитное поле. Электромагнитные волны. Свойства электромагнитных волн. Шкала электромагнитных волн. Использование электромагнитных волн для сотовой связи.

Электромагнитная природа света. Скорость света. Волновые свойства света.

Демонстрации.

1. Свойства электромагнитных волн.
2. Волновые свойства света.

Лабораторные работы и опыты.

1. Изучение свойств электромагнитных волн с помощью мобильного телефона.

Раздел 11. Световые явления.

Лучевая модель света. Источники света. Прямолинейное распространение света. Затмения Солнца и Луны. Отражение света. Плоское зеркало. Закон отражения света.

Преломление света. Закон преломления света. Полное внутреннее отражение света. Использование полного внутреннего отражения в оптических световодах.

Линза. Ход лучей в линзе. Оптическая система фотоаппарата, микроскопа и телескопа. Глаз как оптическая система. Близорукость и дальновидность.

Разложение белого света в спектр. Опыты Ньютона. Сложение спектральных цветов. Дисперсия света.

Демонстрации.

1. Прямолинейное распространение света.
2. Отражение света.
3. Получение изображений в плоском, вогнутом и выпуклом зеркалах.
4. Преломление света.
5. Оптический световод.
6. Ход лучей в собирающей линзе.
7. Ход лучей в рассеивающей линзе.
8. Получение изображений с помощью линз.
9. Принцип действия фотоаппарата, микроскопа и телескопа.
10. Модель глаза.
11. Разложение белого света в спектр.
12. Получение белого света при сложении света разных цветов.

Лабораторные работы и опыты.

1. Исследование зависимости угла отражения светового луча от угла падения.
2. Изучение характеристик изображения предмета в плоском зеркале.
3. Исследование зависимости угла преломления светового луча от угла падения на границе «воздух–стекло».

4. Получение изображений с помощью собирающей линзы.
5. Определение фокусного расстояния и оптической силы собирающей линзы.
6. Опыты по разложению белого света в спектр.
7. Опыты по восприятию цвета предметов при их наблюдении через цветные фильтры.

Раздел 12. Квантовые явления.

Опыты Резерфорда и планетарная модель атома. Модель атома Бора. Испускание и поглощение света атомом. Кванты. Линейчатые спектры.

Радиоактивность. Альфа, бета- и гамма-излучения. Строение атомного ядра. Нуклонная модель атомного ядра. Изотопы. Радиоактивные превращения. Период полураспада атомных ядер.

Ядерные реакции. Законы сохранения зарядового и массового чисел. Энергия связи атомных ядер. Связь массы и энергии. Реакции синтеза и деления ядер. Источники энергии Солнца и звёзд.

Ядерная энергетика. Действия радиоактивных излучений на живые организмы.

Демонстрации.

1. Спектры излучения и поглощения.
2. Спектры различных газов.
3. Спектр водорода.
4. Наблюдение треков в камере Вильсона.
5. Работа счётчика ионизирующих излучений.
6. Регистрация излучения природных минералов и продуктов.

Лабораторные работы и опыты.

1. Наблюдение сплошных и линейчатых спектров излучения.
2. Исследование треков: измерение энергии частицы по тормозному пути (по фотографиям).
3. Измерение радиоактивного фона.

Повторительно-обобщающий модуль.

Повторительно-обобщающий модуль предназначен для систематизации и обобщения предметного содержания и опыта деятельности, приобретённого при изучении всего курса физики, а также для подготовки к основному государственному экзамену по физике для обучающихся, выбравших этот учебный предмет.

При изучении данного модуля реализуются и систематизируются виды деятельности, на основе которых обеспечивается достижение предметных и метапредметных планируемых результатов обучения, формируется естественнонаучная грамотность: освоение научных методов исследования

явлений природы и техники, овладение умениями объяснять физические явления, применяя полученные знания, решать задачи, в том числе качественные и экспериментальные.

Принципиально деятельностный характер данного раздела реализуется за счёт того, что обучающиеся выполняют задания, в которых им предлагается:

на основе полученных знаний распознавать и научно объяснять физические явления в окружающей природе и повседневной жизни;

использовать научные методы исследования физических явлений, в том числе для проверки гипотез и получения теоретических выводов;

объяснять научные основы наиболее важных достижений современных технологий, например, практического использования различных источников энергии на основе закона превращения и сохранения всех известных видов энергии.

ПЛАНИРУЕМЫЕ РЕЗУЛЬТАТЫ ОСВОЕНИЯ ПРОГРАММЫ ПО ФИЗИКЕ НА УРОВНЕ ОСНОВНОГО ОБЩЕГО ОБРАЗОВАНИЯ

Изучение физики на уровне основного общего образования направлено на достижение личностных, метапредметных и предметных образовательных результатов.

В результате изучения физики на уровне основного общего образования у обучающегося будут сформированы следующие личностные результаты в части:

- **1) патриотического воспитания:**

- - проявление интереса к истории и современному состоянию российской физической науки;
- - ценностное отношение к достижениям российских учёных-физиков;

- **2) гражданского и духовно-нравственного воспитания:**

- - готовность к активному участию в обсуждении общественнозначимых этических проблем, связанных с практическим применением достижений физики;
- - осознание важности морально-этических принципов в деятельности учёного;

- **3) эстетического воспитания:**

- - восприятие эстетических качеств физической науки: её гармоничного построения, строгости, точности, лаконичности;

- **4) ценности научного познания:**

- - осознание ценности физической науки как мощного инструмента познания мира, основы развития технологий, важнейшей составляющей культуры;
- - развитие научной любознательности, интереса к исследовательской деятельности;

- **5) формирования культуры здоровья и эмоционального благополучия:**

- - осознание ценности безопасного образа жизни в современном технологическом мире, важности правил безопасного поведения на транспорте, на дорогах, с электрическим и тепловым оборудованием в домашних условиях;
- - сформированность навыка рефлексии, признание своего права на ошибку и такого же права у другого человека;

- **6) трудового воспитания:**

- - активное участие в решении практических задач (в рамках семьи, образовательной организации, города, края) технологической и

социальной направленности, требующих в том числе и физических знаний;

- - интерес к практическому изучению профессий, связанных с физикой;
- **7) экологического воспитания:**
- - ориентация на применение физических знаний для решения задач в области окружающей среды, планирования поступков и оценки их возможных последствий для окружающей среды;
- - осознание глобального характера экологических проблем и путей их решения;
- **8) адаптации к изменяющимся условиям социальной и природной среды:**
- - потребность во взаимодействии при выполнении исследований и проектов физической направленности, открытость опыту и знаниям других;
- - повышение уровня своей компетентности через практическую деятельность;
- - потребность в формировании новых знаний, в том числе формулировать идеи, понятия, гипотезы о физических объектах и явлениях;
- - осознание дефицитов собственных знаний и компетентностей в области физики;
- - планирование своего развития в приобретении новых физических знаний;
- - стремление анализировать и выявлять взаимосвязи природы, общества и экономики, в том числе с использованием физических знаний;
- - оценка своих действий с учётом влияния на окружающую среду, возможных глобальных последствий.

МЕТАПРЕДМЕТНЫЕ РЕЗУЛЬТАТЫ

В результате освоения программы по физике на уровне основного общего образования у обучающегося будут сформированы **метапредметные результаты**, включающие познавательные универсальные учебные действия, коммуникативные универсальные учебные действия, регулятивные универсальные учебные действия.

Познавательные универсальные учебные действия

Базовые логические действия:

- выявлять и характеризовать существенные признаки объектов (явлений);

- устанавливать существенный признак классификации, основания для обобщения и сравнения;
- выявлять закономерности и противоречия в рассматриваемых фактах, данных и наблюдениях, относящихся к физическим явлениям;
- выявлять причинно-следственные связи при изучении физических явлений и процессов, делать выводы с использованием дедуктивных и индуктивных умозаключений, выдвигать гипотезы о взаимосвязях физических величин;
- самостоятельно выбирать способ решения учебной физической задачи (сравнение нескольких вариантов решения, выбор наиболее подходящего с учётом самостоятельно выделенных критериев).

Базовые исследовательские действия:

- использовать вопросы как исследовательский инструмент познания;
- проводить по самостоятельно составленному плану опыт, несложный физический эксперимент, небольшое исследование физического явления;
- оценивать на применимость и достоверность информацию, полученную в ходе исследования или эксперимента;
- самостоятельно формулировать обобщения и выводы по результатам проведённого наблюдения, опыта, исследования;
- прогнозировать возможное дальнейшее развитие физических процессов, а также выдвигать предположения об их развитии в новых условиях и контекстах.

Работа с информацией:

- применять различные методы, инструменты и запросы при поиске и отборе информации или данных с учётом предложенной учебной физической задачи;
- анализировать, систематизировать и интерпретировать информацию различных видов и форм представления;
- самостоятельно выбирать оптимальную форму представления информации и иллюстрировать решаемые задачи несложными схемами, диаграммами, иной графикой и их комбинациями.

Коммуникативные универсальные учебные действия:

- в ходе обсуждения учебного материала, результатов лабораторных работ и проектов задавать вопросы по существу обсуждаемой темы и высказывать идеи, нацеленные на решение задачи и поддержание благожелательности общения;
- сопоставлять свои суждения с суждениями других участников диалога, обнаруживать различие и сходство позиций;

- выражать свою точку зрения в устных и письменных текстах;
- публично представлять результаты выполненного физического опыта (эксперимента, исследования, проекта);
- понимать и использовать преимущества командной и индивидуальной работы при решении конкретной физической проблемы;
- принимать цели совместной деятельности, организовывать действия по её достижению: распределять роли, обсуждать процессы и результаты совместной работы, обобщать мнения нескольких людей;
- выполнять свою часть работы, достигая качественного результата по своему направлению и координируя свои действия с другими членами команды;
- оценивать качество своего вклада в общий продукт по критериям, самостоятельно сформулированным участниками взаимодействия.

Регулятивные универсальные учебные действия

Самоорганизация:

- выявлять проблемы в жизненных и учебных ситуациях, требующих для решения физических знаний;
- ориентироваться в различных подходах принятия решений (индивидуальное, принятие решения в группе, принятие решений группой);
- самостоятельно составлять алгоритм решения физической задачи или плана исследования с учётом имеющихся ресурсов и собственных возможностей, аргументировать предлагаемые варианты решений;
- делать выбор и брать ответственность за решение.

Самоконтроль, эмоциональный интеллект:

- давать адекватную оценку ситуации и предлагать план её изменения;
- объяснять причины достижения (недостижения) результатов деятельности, давать оценку приобретённому опыту;
- вносить коррективы в деятельность (в том числе в ход выполнения физического исследования или проекта) на основе новых обстоятельств, изменившихся ситуаций, установленных ошибок, возникших трудностей;
- оценивать соответствие результата цели и условиям;
- ставить себя на место другого человека в ходе спора или дискуссии на научную тему, понимать мотивы, намерения и логику другого;
- признавать своё право на ошибку при решении физических задач или в утверждениях на научные темы и такое же право другого.

ПРЕДМЕТНЫЕ РЕЗУЛЬТАТЫ

К концу обучения в 7 классе предметные результаты на базовом уровне должны отражать сформированность у обучающихся умений:

- использовать понятия: физические и химические явления, наблюдение, эксперимент, модель, гипотеза, единицы физических величин, атом, молекула, агрегатные состояния вещества (твёрдое, жидкое, газообразное), механическое движение (равномерное, неравномерное, прямолинейное), траектория, равнодействующая сила, деформация (упругая, пластическая), невесомость, сообщающиеся сосуды;
- различать явления (диффузия, тепловое движение частиц вещества, равномерное движение, неравномерное движение, инерция, взаимодействие тел, равновесие твёрдых тел с закреплённой осью вращения, передача давления твёрдыми телами, жидкостями и газами, атмосферное давление, плавание тел, превращения механической энергии) по описанию их характерных свойств и на основе опытов, демонстрирующих данное физическое явление;
- распознавать проявление изученных физических явлений в окружающем мире, в том числе физические явления в природе: примеры движения с различными скоростями в живой и неживой природе, действие силы трения в природе и технике, влияние атмосферного давления на живой организм, плавание рыб, рычаги в теле человека, при этом переводить практическую задачу в учебную, выделять существенные свойства (признаки) физических явлений;
- описывать изученные свойства тел и физические явления, используя физические величины (масса, объём, плотность вещества, время, путь, скорость, средняя скорость, сила упругости, сила тяжести, вес тела, сила трения, давление (твёрдого тела, жидкости, газа), выталкивающая сила, механическая работа, мощность, плечо силы, момент силы, коэффициент полезного действия механизмов, кинетическая и потенциальная энергия), при описании правильно трактовать физический смысл используемых величин, их обозначения и единицы физических величин, находить формулы, связывающие данную физическую величину с другими величинами, строить графики изученных зависимостей физических величин;
- характеризовать свойства тел, физические явления и процессы, используя правила сложения сил (вдоль одной прямой), закон Гука, закон Паскаля, закон Архимеда, правило равновесия рычага (блока),

«золотое правило» механики, закон сохранения механической энергии, при этом давать словесную формулировку закона и записывать его математическое выражение;

- объяснять физические явления, процессы и свойства тел, в том числе и в контексте ситуаций практикоориентированного характера: выявлять причинно-следственные связи, строить объяснение из 1–2 логических шагов с опорой на 1–2 изученных свойства физических явлений, физических закона или закономерности;
- решать расчётные задачи в 1–2 действия, используя законы и формулы, связывающие физические величины: на основе анализа условия задачи записывать краткое условие, подставлять физические величины в формулы и проводить расчёты, находить справочные данные, необходимые для решения задач, оценивать реалистичность полученной физической величины;
- распознавать проблемы, которые можно решить при помощи физических методов, в описании исследования выделять проверяемое предположение (гипотезу), различать и интерпретировать полученный результат, находить ошибки в ходе опыта, делать выводы по его результатам;
- проводить опыты по наблюдению физических явлений или физических свойств тел: формулировать проверяемые предположения, собирать установку из предложенного оборудования, записывать ход опыта и формулировать выводы;
- выполнять прямые измерения расстояния, времени, массы тела, объёма, силы и температуры с использованием аналоговых и цифровых приборов, записывать показания приборов с учётом заданной абсолютной погрешности измерений;
- проводить исследование зависимости одной физической величины от другой с использованием прямых измерений (зависимости пути равномерно движущегося тела от времени движения тела, силы трения скольжения от веса тела, качества обработки поверхностей тел и независимости силы трения от площади соприкосновения тел, силы упругости от удлинения пружины, выталкивающей силы от объёма погружённой части тела и от плотности жидкости, её независимости от плотности тела, от глубины, на которую погружено тело, условий плавания тел, условий равновесия рычага и блоков), участвовать в планировании учебного исследования, собирать установку и выполнять измерения, следуя предложенному плану, фиксировать результаты полученной зависимости физических величин в виде

предложенных таблиц и графиков, делать выводы по результатам исследования;

- проводить косвенные измерения физических величин (плотность вещества жидкости и твёрдого тела, сила трения скольжения, давление воздуха, выталкивающая сила, действующая на погружённое в жидкость тело, коэффициент полезного действия простых механизмов), следуя предложенной инструкции: при выполнении измерений собирать экспериментальную установку и вычислять значение искомой величины;
- соблюдать правила техники безопасности при работе с лабораторным оборудованием;
- указывать принципы действия приборов и технических устройств: весы, термометр, динамометр, сообщающиеся сосуды, барометр, рычаг, подвижный и неподвижный блок, наклонная плоскость;
- характеризовать принципы действия изученных приборов и технических устройств с опорой на их описания (в том числе: подшипники, устройство водопровода, гидравлический пресс, манометр, высотомер, поршневой насос, ареометр), используя знания о свойствах физических явлений и необходимые физические законы и закономерности;
- приводить примеры (находить информацию о примерах) практического использования физических знаний в повседневной жизни для обеспечения безопасности при обращении с приборами и техническими устройствами, сохранения здоровья и соблюдения норм экологического поведения в окружающей среде;
- осуществлять отбор источников информации в Интернете в соответствии с заданным поисковым запросом, на основе имеющихся знаний и путём сравнения различных источников выделять информацию, которая является противоречивой или может быть недостоверной;
- использовать при выполнении учебных заданий научно-популярную литературу физического содержания, справочные материалы, ресурсы сети Интернет, владеть приёмами конспектирования текста, преобразования информации из одной знаковой системы в другую;
- создавать собственные краткие письменные и устные сообщения на основе 2–3 источников информации физического содержания, в том числе публично делать краткие сообщения о результатах проектов или учебных исследований, при этом грамотно использовать

изученный понятийный аппарат курса физики, сопровождать выступление презентацией;

- при выполнении учебных проектов и исследований распределять обязанности в группе в соответствии с поставленными задачами, следить за выполнением плана действий, адекватно оценивать собственный вклад в деятельность группы, выстраивать коммуникативное взаимодействие, учитывая мнение окружающих.

К концу обучения **в 8 классе** предметные результаты на базовом уровне должны отражать сформированность у обучающихся умений:

- использовать понятия: масса и размеры молекул, тепловое движение атомов и молекул, агрегатные состояния вещества, кристаллические и аморфные тела, насыщенный и ненасыщенный пар, влажность воздуха, температура, внутренняя энергия, тепловой двигатель, элементарный электрический заряд, электрическое поле, проводники и диэлектрики, постоянный электрический ток, магнитное поле;
- различать явления (тепловое расширение и сжатие, теплопередача, тепловое равновесие, смачивание, капиллярные явления, испарение, конденсация, плавление, кристаллизация (отвердевание), кипение, теплопередача (теплопроводность, конвекция, излучение), электризация тел, взаимодействие зарядов, действия электрического тока, короткое замыкание, взаимодействие магнитов, действие магнитного поля на проводник с током, электромагнитная индукция) по описанию их характерных свойств и на основе опытов, демонстрирующих данное физическое явление;
- распознавать проявление изученных физических явлений в окружающем мире, в том числе физические явления в природе: поверхностное натяжение и капиллярные явления в природе, кристаллы в природе, излучение Солнца, замерзание водоёмов, морские бризы, образование росы, тумана, инея, снега, электрические явления в атмосфере, электричество живых организмов, магнитное поле Земли, дрейф полюсов, роль магнитного поля для жизни на Земле, полярное сияние, при этом переводить практическую задачу в учебную, выделять существенные свойства (признаки) физических явлений;
- описывать изученные свойства тел и физические явления, используя физические величины (температура, внутренняя энергия, количество теплоты, удельная теплоёмкость вещества, удельная теплота плавления, удельная теплота парообразования, удельная теплота сгорания топлива, коэффициент полезного действия тепловой

машины, относительная влажность воздуха, электрический заряд, сила тока, электрическое напряжение, сопротивление проводника, удельное сопротивление вещества, работа и мощность электрического тока), при описании правильно трактовать физический смысл используемых величин, обозначения и единицы физических величин, находить формулы, связывающие данную физическую величину с другими величинами, строить графики изученных зависимостей физических величин;

- характеризовать свойства тел, физические явления и процессы, используя основные положения молекулярно-кинетической теории строения вещества, принцип суперпозиции полей (на качественном уровне), закон сохранения заряда, закон Ома для участка цепи, закон Джоуля–Ленца, закон сохранения энергии, при этом давать словесную формулировку закона и записывать его математическое выражение;
- объяснять физические процессы и свойства тел, в том числе и в контексте ситуаций практикоориентированного характера: выявлять причинноследственные связи, строить объяснение из 1–2 логических шагов с опорой на 1–2 изученных свойства физических явлений, физических законов или закономерностей;
- решать расчётные задачи в 2–3 действия, используя законы и формулы, связывающие физические величины: на основе анализа условия задачи записывать краткое условие, выявлять недостаток данных для решения задачи, выбирать законы и формулы, необходимые для её решения, проводить расчёты и сравнивать полученное значение физической величины с известными данными;
- распознавать проблемы, которые можно решить при помощи физических методов, используя описание исследования, выделять проверяемое предположение, оценивать правильность порядка проведения исследования, делать выводы;
- проводить опыты по наблюдению физических явлений или физических свойств тел (капиллярные явления, зависимость давления воздуха от его объёма, температуры, скорости процесса остывания и нагревания при излучении от цвета излучающей (поглощающей) поверхности, скорость испарения воды от температуры жидкости и площади её поверхности, электризация тел и взаимодействие электрических зарядов, взаимодействие постоянных магнитов, визуализация магнитных полей постоянных магнитов, действия магнитного поля на проводник с током, свойства электромагнита,

свойства электродвигателя постоянного тока): формулировать проверяемые предположения, собирать установку из предложенного оборудования, описывать ход опыта и формулировать выводы;

- выполнять прямые измерения температуры, относительной влажности воздуха, силы тока, напряжения с использованием аналоговых приборов и датчиков физических величин, сравнивать результаты измерений с учётом заданной абсолютной погрешности;
- проводить исследование зависимости одной физической величины от другой с использованием прямых измерений (зависимость сопротивления проводника от его длины, площади поперечного сечения и удельного сопротивления вещества проводника, силы тока, идущего через проводник, от напряжения на проводнике, исследование последовательного и параллельного соединений проводников): планировать исследование, собирать установку и выполнять измерения, следуя предложенному плану, фиксировать результаты полученной зависимости в виде таблиц и графиков, делать выводы по результатам исследования;
- проводить косвенные измерения физических величин (удельная теплоёмкость вещества, сопротивление проводника, работа и мощность электрического тока): планировать измерения, собирать экспериментальную установку, следуя предложенной инструкции, и вычислять значение величины;
- соблюдать правила техники безопасности при работе с лабораторным оборудованием;
- характеризовать принципы действия изученных приборов и технических устройств с опорой на их описания (в том числе: система отопления домов, гигрометр, паровая турбина, амперметр, вольтметр, счётчик электрической энергии, электроосветительные приборы, нагревательные электроприборы (примеры), электрические предохранители, электромагнит, электродвигатель постоянного тока), используя знания о свойствах физических явлений и необходимые физические закономерности;
- распознавать простые технические устройства и измерительные приборы по схемам и схематичным рисункам (жидкостный термометр, термос, психрометр, гигрометр, двигатель внутреннего сгорания, электроскоп, реостат), составлять схемы электрических цепей с последовательным и параллельным соединением элементов, различая условные обозначения элементов электрических цепей;

- приводить примеры (находить информацию о примерах) практического использования физических знаний в повседневной жизни для обеспечения безопасности при обращении с приборами и техническими устройствами, сохранения здоровья и соблюдения норм экологического поведения в окружающей среде;
- осуществлять поиск информации физического содержания в Интернете, на основе имеющихся знаний и путём сравнения дополнительных источников выделять информацию, которая является противоречивой или может быть недостоверной;
- использовать при выполнении учебных заданий научно-популярную литературу физического содержания, справочные материалы, ресурсы сети Интернет, владеть приёмами конспектирования текста, преобразования информации из одной знаковой системы в другую;
- создавать собственные письменные и краткие устные сообщения, обобщая информацию из нескольких источников физического содержания, в том числе публично представлять результаты проектной или исследовательской деятельности, при этом грамотно использовать изученный понятийный аппарат курса физики, сопровождать выступление презентацией;
- при выполнении учебных проектов и исследований физических процессов распределять обязанности в группе в соответствии с поставленными задачами, следить за выполнением плана действий и корректировать его, адекватно оценивать собственный вклад в деятельность группы, выстраивать коммуникативное взаимодействие, проявляя готовность разрешать конфликты.

К концу обучения в 9 классе предметные результаты на базовом уровне должны отражать сформированность у обучающихся умений:

- использовать понятия: система отсчёта, материальная точка, траектория, относительность механического движения, деформация (упругая, пластическая), трение, центростремительное ускорение, невесомость и перегрузки, центр тяжести, абсолютно твёрдое тело, центр тяжести твёрдого тела, равновесие, механические колебания и волны, звук, инфразвук и ультразвук, электромагнитные волны, шкала электромагнитных волн, свет, близорукость и дальновидность, спектры испускания и поглощения, альфа, бета- и гамма-излучения, изотопы, ядерная энергетика;
- различать явления (равномерное и неравномерное прямолинейное движение, равноускоренное прямолинейное движение, свободное падение тел, равномерное движение по окружности, взаимодействие

тел, реактивное движение, колебательное движение (затухающие и вынужденные колебания), резонанс, волновое движение, отражение звука, прямолинейное распространение, отражение и преломление света, полное внутреннее отражение света, разложение белого света в спектр и сложение спектральных цветов, дисперсия света, естественная радиоактивность, возникновение линейчатого спектра излучения) по описанию их характерных свойств и на основе опытов, демонстрирующих данное физическое явление;

- распознавать проявление изученных физических явлений в окружающем мире (в том числе физические явления в природе: приливы и отливы, движение планет Солнечной системы, реактивное движение живых организмов, восприятие звуков животными, землетрясение, сейсмические волны, цунами, эхо, цвета тел, оптические явления в природе, биологическое действие видимого, ультрафиолетового и рентгеновского излучений, естественный радиоактивный фон, космические лучи, радиоактивное излучение природных минералов, действие радиоактивных излучений на организм человека), при этом переводить практическую задачу в учебную, выделять существенные свойства (признаки) физических явлений;
- описывать изученные свойства тел и физические явления, используя физические величины (средняя и мгновенная скорость тела при неравномерном движении, ускорение, перемещение, путь, угловая скорость, сила трения, сила упругости, сила тяжести, ускорение свободного падения, вес тела, импульс тела, импульс силы, механическая работа и мощность, потенциальная энергия тела, поднятого над поверхностью земли, потенциальная энергия сжатой пружины, кинетическая энергия, полная механическая энергия, период и частота колебаний, длина волны, громкость звука и высота тона, скорость света, показатель преломления среды), при описании правильно трактовать физический смысл используемых величин, обозначения и единицы физических величин, находить формулы, связывающие данную физическую величину с другими величинами, строить графики изученных зависимостей физических величин;
- характеризовать свойства тел, физические явления и процессы, используя закон сохранения энергии, закон всемирного тяготения, принцип суперпозиции сил, принцип относительности Галилея, законы Ньютона, закон сохранения импульса, законы отражения и преломления света, законы сохранения зарядового и массового чисел

при ядерных реакциях, при этом давать словесную формулировку закона и записывать его математическое выражение;

- объяснять физические процессы и свойства тел, в том числе и в контексте ситуаций практикоориентированного характера: выявлять причинно-следственные связи, строить объяснение из 2–3 логических шагов с опорой на 2–3 изученных свойства физических явлений, физических законов или закономерностей;
- решать расчётные задачи (опирающиеся на систему из 2–3 уравнений), используя законы и формулы, связывающие физические величины: на основе анализа условия задачи записывать краткое условие, выявлять недостающие или избыточные данные, выбирать законы и формулы, необходимые для решения, проводить расчёты и оценивать реалистичность полученного значения физической величины;
- распознавать проблемы, которые можно решить при помощи физических методов, используя описание исследования, выделять проверяемое предположение, оценивать правильность порядка проведения исследования, делать выводы, интерпретировать результаты наблюдений и опытов;
- проводить опыты по наблюдению физических явлений или физических свойств тел (изучение второго закона Ньютона, закона сохранения энергии, зависимость периода колебаний пружинного маятника от массы груза и жёсткости пружины и независимость от амплитуды малых колебаний, прямолинейное распространение света, разложение белого света в спектр, изучение свойств изображения в плоском зеркале и свойств изображения предмета в собирающей линзе, наблюдение сплошных и линейчатых спектров излучения): самостоятельно собирать установку из избыточного набора оборудования, описывать ход опыта и его результаты, формулировать выводы;
- проводить при необходимости серию прямых измерений, определяя среднее значение измеряемой величины (фокусное расстояние собирающей линзы), обосновывать выбор способа измерения (измерительного прибора);
- проводить исследование зависимостей физических величин с использованием прямых измерений (зависимость пути от времени при равноускоренном движении без начальной скорости, периода колебаний математического маятника от длины нити, зависимости угла отражения света от угла падения и угла преломления от угла

падения): планировать исследование, самостоятельно собирать установку, фиксировать результаты полученной зависимости физических величин в виде таблиц и графиков, делать выводы по результатам исследования;

- проводить косвенные измерения физических величин (средняя скорость и ускорение тела при равноускоренном движении, ускорение свободного падения, жёсткость пружины, коэффициент трения скольжения, механическая работа и мощность, частота и период колебаний математического и пружинного маятников, оптическая сила собирающей линзы, радиоактивный фон): планировать измерения, собирать экспериментальную установку и выполнять измерения, следуя предложенной инструкции, вычислять значение величины и анализировать полученные результаты с учётом заданной погрешности измерений;
- соблюдать правила техники безопасности при работе с лабораторным оборудованием;
- различать основные признаки изученных физических моделей: материальная точка, абсолютно твёрдое тело, точечный источник света, луч, тонкая линза, планетарная модель атома, нуклонная модель атомного ядра;
- характеризовать принципы действия изученных приборов и технических устройств с опорой на их описания (в том числе: спидометр, датчики положения, расстояния и ускорения, ракета, эхолот, очки, перископ, фотоаппарат, оптические световоды, спектроскоп, дозиметр, камера Вильсона), используя знания о свойствах физических явлений и необходимые физические закономерности;
- использовать схемы и схематичные рисунки изученных технических устройств, измерительных приборов и технологических процессов при решении учебно-практических задач, оптические схемы для построения изображений в плоском зеркале и собирающей линзе;
- приводить примеры (находить информацию о примерах) практического использования физических знаний в повседневной жизни для обеспечения безопасности при обращении с приборами и техническими устройствами, сохранения здоровья и соблюдения норм экологического поведения в окружающей среде;
- осуществлять поиск информации физического содержания в Интернете, самостоятельно формулируя поисковый запрос, находить

пути определения достоверности полученной информации на основе имеющихся знаний и дополнительных источников;

- использовать при выполнении учебных заданий научно-популярную литературу физического содержания, справочные материалы, ресурсы сети Интернет, владеть приёмами конспектирования текста, преобразования информации из одной знаковой системы в другую;
- создавать собственные письменные и устные сообщения на основе информации из нескольких источников физического содержания, публично представлять результаты проектной или исследовательской деятельности, при этом грамотно использовать изученный понятийный аппарат изучаемого раздела физики и сопровождать выступление презентацией с учётом особенностей аудитории сверстников.

ТЕМАТИЧЕСКОЕ ПЛАНИРОВАНИЕ 7 КЛАСС

№ п/п	Наименование разделов и тем программы	Количество часов			Электронные (цифровые) образовательные ресурсы
		Всего	Контрольные работы	Практические работы	
Раздел 1. Физика и её роль в познании окружающего мира					
1.1	Физика - наука о природе	2			Библиотека ЦОК https://m.edsoo.ru/7f416194
1.2	Физические величины	2		1	Библиотека ЦОК https://m.edsoo.ru/7f416194
1.3	Естественнонаучный метод познания	2		1	Библиотека ЦОК https://m.edsoo.ru/7f416194
Итого по разделу		6			
Раздел 2. Первоначальные сведения о строении вещества					
2.1	Строение вещества	1			Библиотека ЦОК https://m.edsoo.ru/7f416194
2.2	Движение и взаимодействие частиц вещества	2		1	Библиотека ЦОК https://m.edsoo.ru/7f416194
2.3	Агрегатные состояния вещества	2			Библиотека ЦОК https://m.edsoo.ru/7f416194
Итого по разделу		5			
Раздел 3. Движение и взаимодействие тел					
3.1	Механическое движение	3			Библиотека ЦОК https://m.edsoo.ru/7f416194
3.2	Инерция, масса, плотность	4		1	Библиотека ЦОК

					https://m.edsoo.ru/7f416194
3.3	Сила. Виды сил	14	1	2	Библиотека ЦОК https://m.edsoo.ru/7f416194
Итого по разделу		21			
Раздел 4. Давление твёрдых тел, жидкостей и газов					
4.1	Давление. Передача давления твёрдыми телами, жидкостями и газами	3			Библиотека ЦОК https://m.edsoo.ru/7f416194
4.2	Давление жидкости	5			Библиотека ЦОК https://m.edsoo.ru/7f416194
4.3	Атмосферное давление	6			Библиотека ЦОК https://m.edsoo.ru/7f416194
4.4	Действие жидкости и газа на погружённое в них тело	7	1	3	Библиотека ЦОК https://m.edsoo.ru/7f416194
Итого по разделу		21			
Раздел 5. Работа и мощность. Энергия					
5.1	Работа и мощность	3		1	Библиотека ЦОК https://m.edsoo.ru/7f416194
5.2	Простые механизмы	5		1	Библиотека ЦОК https://m.edsoo.ru/7f416194
5.3	Механическая энергия	4	2	1	Библиотека ЦОК https://m.edsoo.ru/7f416194
Итого по разделу		12			
Резервное время		3			
ОБЩЕЕ КОЛИЧЕСТВО ЧАСОВ ПО ПРОГРАММЕ		68	4	12	

8 КЛАСС

№ п/п	Наименование разделов и тем программы	Количество часов			Электронные (цифровые) образовательные ресурсы
		Всего	Контрольные работы	Практические работы	
Раздел 1. Тепловые явления					
1.1	Строение и свойства вещества	7	1		Библиотека ЦОК https://m.edsoo.ru/7f4181ce
1.2	Тепловые процессы	21	1	5	Библиотека ЦОК https://m.edsoo.ru/7f4181ce
Итого по разделу		28			
Раздел 2. Электрические и магнитные явления					
2.1	Электрические заряды. Заряженные тела и их взаимодействие	7		1	Библиотека ЦОК https://m.edsoo.ru/7f4181ce
2.2	Постоянный электрический ток	20	1	7	Библиотека ЦОК https://m.edsoo.ru/7f4181ce
2.3	Магнитные явления	6	1	1.5	Библиотека ЦОК https://m.edsoo.ru/7f4181ce
2.4	Электромагнитная индукция	4	1		Библиотека ЦОК https://m.edsoo.ru/7f4181ce
Итого по разделу		37			
Резервное время		3			
ОБЩЕЕ КОЛИЧЕСТВО ЧАСОВ ПО ПРОГРАММЕ		68	5	14.5	

9 КЛАСС

№ п/п	Наименование разделов и тем программы	Количество часов			Электронные (цифровые) образовательные ресурсы
		Всего	Контрольные работы	Практические работы	
Раздел 1. Механические явления					
1.1	Механическое движение и способы его описания	10	1	1	Библиотека ЦОК https://m.edsoo.ru/7f41a4a6
1.2	Взаимодействие тел	20	1	3	Библиотека ЦОК https://m.edsoo.ru/7f41a4a6
1.3	Законы сохранения	10		3	Библиотека ЦОК https://m.edsoo.ru/7f41a4a6
Итого по разделу		40			
Раздел 2. Механические колебания и волны					
2.1	Механические колебания	7		3	Библиотека ЦОК https://m.edsoo.ru/7f41a4a6
2.2	Механические волны. Звук	8	1	3	Библиотека ЦОК https://m.edsoo.ru/7f41a4a6
Итого по разделу		15			
Раздел 3. Электромагнитное поле и электромагнитные волны					
3.1	Электромагнитное поле и электромагнитные волны	6		2	Библиотека ЦОК https://m.edsoo.ru/7f41a4a6
Итого по разделу		6			
Раздел 4. Световые явления					
4.1	Законы распространения света	6		2	Библиотека ЦОК

					https://m.edsoo.ru/7f41a4a6
4.2	Линзы и оптические приборы	6		3	Библиотека ЦОК https://m.edsoo.ru/7f41a4a6
4.3	Разложение белого света в спектр	3		2	Библиотека ЦОК https://m.edsoo.ru/7f41a4a6
Итого по разделу		15			
Раздел 5. Квантовые явления					
5.1	Испускание и поглощение света атомом	4		1	Библиотека ЦОК https://m.edsoo.ru/7f41a4a6
5.2	Строение атомного ядра	6		1	Библиотека ЦОК https://m.edsoo.ru/7f41a4a6
5.3	Ядерные реакции	7	1	1	Библиотека ЦОК https://m.edsoo.ru/7f41a4a6
Итого по разделу		17			
Раздел 6. Повторительно-обобщающий модуль					
6.1	Повторение и обобщение содержания курса физики за 7-9 класс	9	1	2	Библиотека ЦОК https://m.edsoo.ru/7f41a4a6
Итого по разделу		9			
ОБЩЕЕ КОЛИЧЕСТВО ЧАСОВ ПО ПРОГРАММЕ		102	5	27	

ПОУРОЧНОЕ ПЛАНИРОВАНИЕ
7 КЛАСС

№ п/п	Тема урока	Количество часов			Дата изучения	Электронные цифровые образовательные ресурсы
		Всего	Контрольные работы	Практические работы		
1	Физика — наука о природе. Явления природы. Физические явления	1				
2	Механические, тепловые, электрические, магнитные, световые, звуковые явления	1				
3	Физические величины и их измерение	1				
4	Урок-исследование "Измерение температуры при помощи жидкостного термометра и датчика температуры"	1		1		
5	Как физика и другие естественные науки изучают природу. Естественнонаучный метод познания. Описание физических явлений с помощью моделей	1				Библиотека ЦОК https://m.edsoo.ru/ff09f72a
6	Урок-исследование "Проверка гипотезы: дальность полёта шарика, пущенного горизонтально, тем больше, чем больше высота пуска"	1		1		

7	Строение вещества. Опыты, доказывающие дискретное строение вещества	1				Библиотека ЦОК https://m.edsoo.ru/ff09fe0a
8	Движение частиц вещества	1				Библиотека ЦОК https://m.edsoo.ru/ff0a013e
9	Урок-исследование «Опыты по наблюдению теплового расширения газов»	1		1		
10	Агрегатные состояния вещества	1				
11	Взаимосвязь между свойствами веществ в разных агрегатных состояниях и их атомномолекулярным строением. Особенности агрегатных состояний воды	1				Библиотека ЦОК https://m.edsoo.ru/ff0a0378
12	Механическое движение. Равномерное и неравномерное движение	1				Библиотека ЦОК https://m.edsoo.ru/ff0a05c6
13	Скорость. Единицы скорости	1				Библиотека ЦОК https://m.edsoo.ru/ff0a079c
14	Расчет пути и времени движения	1				Библиотека ЦОК https://m.edsoo.ru/ff0a0ae4
15	Инерция. Закон инерции. Взаимодействие тел как причина изменения скорости движения тел	1				Библиотека ЦОК https://m.edsoo.ru/ff0a0c10
16	Плотность вещества. Расчет массы и объема тела по его плотности	1				Библиотека ЦОК https://m.edsoo.ru/ff0a0fee
17	Лабораторная работа «Определение	1		1		

	плотности твёрдого тела»					
18	Решение задач по теме "Плотность вещества"	1				Библиотека ЦОК https://m.edsoo.ru/ff0a123c
19	Сила как характеристика взаимодействия тел. Сила упругости. Закон Гука	1				
20	Лабораторная работа «Изучение зависимости растяжения (деформации) пружины от приложенной силы»	1		1		
21	Явление тяготения. Сила тяжести	1				
22	Связь между силой тяжести и массой тела. Вес тела. Решение задач по теме "Сила тяжести"	1				Библиотека ЦОК https://m.edsoo.ru/ff0a1778
23	Сила тяжести на других планетах. Физические характеристики планет	1				Библиотека ЦОК https://m.edsoo.ru/ff0a1502
24	Измерение сил. Динамометр	1				Библиотека ЦОК https://m.edsoo.ru/ff0a18cc
25	Вес тела. Невесомость	1				Библиотека ЦОК https://m.edsoo.ru/ff0a1778
26	Сложение двух сил, направленных по одной прямой. Равнодействующая сил	1				Библиотека ЦОК https://m.edsoo.ru/ff0a1a70
27	Решение задач по теме "Равнодействующая сил"	1				
28	Трение скольжения и трение покоя. Трение в природе и технике	1				Библиотека ЦОК https://m.edsoo.ru/ff0a1b9c
29	Лабораторная работа «Изучение	1		1		Библиотека ЦОК

	зависимости силы трения скольжения от силы давления и характера соприкасающихся поверхностей»					https://m.edsoo.ru/ff0a1cc8
30	Решение задач на определение равнодействующей силы	1				
31	Решение задач по темам: «Вес тела», «Графическое изображение сил», «Силы», «Равнодействующая сил»	1				Библиотека ЦОК https://m.edsoo.ru/ff0a1de0
32	Контрольная работа по темам: «Механическое движение», «Масса, плотность», «Вес тела», «Графическое изображение сил», «Силы»	1	1			
33	Давление. Способы уменьшения и увеличения давления	1				Библиотека ЦОК https://m.edsoo.ru/ff0a20a6
34	Давление газа. Зависимость давления газа от объёма, температуры	1				Библиотека ЦОК https://m.edsoo.ru/ff0a2376
35	Передача давления твёрдыми телами, жидкостями и газами. Закон Паскаля	1				Библиотека ЦОК https://m.edsoo.ru/ff0a25b0
36	Давление в жидкости и газе, вызванное действием силы тяжести	1				Библиотека ЦОК https://m.edsoo.ru/ff0a2718
37	Решение задач по теме «Давление в жидкости и газе. Закон Паскаля»	1				Библиотека ЦОК https://m.edsoo.ru/ff0a2826
38	Сообщающиеся сосуды	1				Библиотека ЦОК

					https://m.edsoo.ru/ff0a2970
39	Гидравлический пресс	1			Библиотека ЦОК https://m.edsoo.ru/ff0a3136
40	Манометры. Поршневой жидкостный насос	1			
41	Атмосфера Земли. Причины существования воздушной оболочки Земли. Зависимость атмосферного давления от высоты над уровнем моря	1			Библиотека ЦОК https://m.edsoo.ru/ff0a2b5a
42	Вес воздуха. Атмосферное давление	1			Библиотека ЦОК https://m.edsoo.ru/ff0a2b5a
43	Измерение атмосферного давления. Опыт Торричелли	1			Библиотека ЦОК https://m.edsoo.ru/ff0a2da8
44	Зависимость атмосферного давления от высоты над уровнем моря	1			Библиотека ЦОК https://m.edsoo.ru/ff0a2fc4
45	Барометр-анероид. Атмосферное давление на различных высотах	1			Библиотека ЦОК https://m.edsoo.ru/ff0a2fc4
46	Решение задач по теме "Атмосферное давление"	1			
47	Действие жидкости и газа на погруженное в них тело. Архимедова сила	1			Библиотека ЦОК https://m.edsoo.ru/ff0a3276
48	Лабораторная работа «Определение выталкивающей силы, действующей на тело, погруженное в жидкость»	1		1	Библиотека ЦОК https://m.edsoo.ru/ff0a33fc

49	Лабораторная работа по теме «Исследование зависимости веса тела в воде от объёма погруженной в жидкость части тела»	1		1		Библиотека ЦОК https://m.edsoo.ru/ff0a3514
50	Плавание тел	1				Библиотека ЦОК https://m.edsoo.ru/ff0a3a96
51	Лабораторная работа "Конструирование ареометра или конструирование лодки и определение её грузоподъёмности"	1		1		
52	Решение задач по темам: «Плавание судов. Воздухоплавание», «Давление твердых тел, жидкостей и газов»	1				Библиотека ЦОК https://m.edsoo.ru/ff0a3654
53	Контрольная работа по теме «Давление твердых тел, жидкостей и газов»	1	1			
54	Механическая работа	1				Библиотека ЦОК https://m.edsoo.ru/ff0a3f82
55	Мощность. Единицы мощности	1				Библиотека ЦОК https://m.edsoo.ru/ff0a3f82
56	Урок-исследование "Расчёт мощности, развиваемой при подъёме по лестнице"	1		1		
57	Простые механизмы. Рычаг. Равновесие сил на рычаге	1				
58	Рычаги в технике, быту и природе. Лабораторная работа «Исследование условий равновесия	1		0.5		Библиотека ЦОК https://m.edsoo.ru/ff0a478e

	рычага»					
59	Решение задач по теме «Условия равновесия рычага»	1				Библиотека ЦОК https://m.edsoo.ru/ff0a48a6
60	Коэффициент полезного действия механизма. Лабораторная работа «Измерение КПД наклонной плоскости»	1		0.5		
61	Решение задач по теме "Работа, мощность, КПД"	1				Библиотека ЦОК https://m.edsoo.ru/ff0a4c48
62	Механическая энергия. Кинетическая и потенциальная энергия	1				Библиотека ЦОК https://m.edsoo.ru/ff0a4252
63	Закон сохранения механической энергии	1				Библиотека ЦОК https://m.edsoo.ru/ff0a4360
64	Урок-эксперимент по теме "Экспериментальное определение изменения кинетической и потенциальной энергии при скатывании тела по наклонной плоскости"	1		1		
65	Контрольная работа по теме «Работа и мощность. Энергия»	1	1			
66	Резервный урок. Работа с текстами по теме "Механическое движение"	1				Библиотека ЦОК https://m.edsoo.ru/ff0a4ee6
67	Промежуточная аттестация. Итоговая контрольная работа.	1	1			Библиотека ЦОК https://m.edsoo.ru/ff0a4ffe
68	Резервный урок. Работа с текстами по теме "Работа. Мощность.	1				

	Энергия"					
ОБЩЕЕ КОЛИЧЕСТВО ЧАСОВ ПО ПРОГРАММЕ	68	4	12			

8 КЛАСС

№ п/п	Тема урока	Количество часов			Дата изучения	Электронные цифровые образовательные ресурсы
		Всего	Контрольные работы	Практические работы		
1	Основные положения молекулярно-кинетической теории и их опытные подтверждения	1				Библиотека ЦОК https://m.edsoo.ru/ff0a5256
2	Масса и размер атомов и молекул	1				
3	Входная контрольная работа. Модели твёрдого, жидкого и газообразного состояний вещества	1	1			Библиотека ЦОК https://m.edsoo.ru/ff0a540e
4	Объяснение свойств твёрдого, жидкого и газообразного состояний вещества на основе положений молекулярно-кинетической теории	1				
5	Кристаллические и аморфные тела	1				Библиотека ЦОК https://m.edsoo.ru/ff0a5800
6	Смачивание и капиллярность. Поверхностное натяжение	1				Библиотека ЦОК https://m.edsoo.ru/ff0a5530
7	Тепловое расширение и сжатие	1				Библиотека ЦОК https://m.edsoo.ru/ff0a5a26
8	Температура. Связь температуры со скоростью теплового движения частиц	1				
9	Внутренняя энергия. Способы изменения внутренней энергии	1				Библиотека ЦОК https://m.edsoo.ru/ff0a5c60

10	Виды теплопередачи	1				Библиотека ЦОК https://m.edsoo.ru/ff0a6412
11	Урок-конференция "Практическое использование тепловых свойств веществ и материалов в целях энергосбережения"	1		1		Библиотека ЦОК https://m.edsoo.ru/ff0a65c0
12	Количество теплоты. Удельная теплоемкость	1				Библиотека ЦОК https://m.edsoo.ru/ff0a6976
13	Уравнение теплового баланса. Теплообмен и тепловое равновесие	1				Библиотека ЦОК https://m.edsoo.ru/ff0a7088
14	Лабораторная работа "Исследование явления теплообмена при смешивании холодной и горячей воды"	1		1		Библиотека ЦОК https://m.edsoo.ru/ff0a6a98
15	Расчет количества теплоты, необходимого для нагревания тела и выделяемого им при охлаждении	1				
16	Лабораторная работа "Определение удельной теплоемкости вещества"	1		1		Библиотека ЦОК https://m.edsoo.ru/ff0a6bb0
17	Энергия топлива. Удельная теплота сгорания	1				Библиотека ЦОК https://m.edsoo.ru/ff0a7b5a
18	Плавление и отвердевание кристаллических тел. Удельная теплота плавления	1				Библиотека ЦОК https://m.edsoo.ru/ff0a71d2
19	Лабораторная работа "Определение удельной теплоты плавления льда"	1		1		Библиотека ЦОК https://m.edsoo.ru/ff0a72fe
20	Парообразование и конденсация. Испарение	1				Библиотека ЦОК https://m.edsoo.ru/ff0a740c

21	Кипение. Удельная теплота парообразования и конденсации. Зависимость температуры кипения от атмосферного давления	1				Библиотека ЦОК https://m.edsoo.ru/ff0a786c
22	Влажность воздуха. Лабораторная работа "Определение относительной влажности воздуха"	1		1		Библиотека ЦОК https://m.edsoo.ru/ff0a7628
23	Решение задач на определение влажности воздуха	1				
24	Принципы работы тепловых двигателей. Паровая турбина. Двигатель внутреннего сгорания	1				
25	КПД теплового двигателя. Тепловые двигатели и защита окружающей среды	1				Библиотека ЦОК https://m.edsoo.ru/ff0a7c7c
26	Закон сохранения и превращения энергии в тепловых процессах	1				
27	Подготовка к контрольной работе по теме "Тепловые явления. Изменение агрегатных состояний вещества"	1				Библиотека ЦОК https://m.edsoo.ru/ff0a83f2
28	Контрольная работа по теме "Тепловые явления. Изменение агрегатных состояний вещества"	1	1			Библиотека ЦОК https://m.edsoo.ru/ff0a86ae
29	Электризация тел. Два рода электрических зарядов	1				
30	Урок-исследование "Электризация тел индукцией и при	1		1		

	соприкосновении"					
31	Взаимодействие заряженных тел. Закон Кулона	1				Библиотека ЦОК https://m.edsoo.ru/ff0a87e4
32	Электрическое поле. Напряженность электрического поля. Принцип суперпозиции электрических полей	1				Библиотека ЦОК https://m.edsoo.ru/ff0a8a0a
33	Носители электрических зарядов. Элементарный заряд. Строение атома	1				
34	Проводники и диэлектрики. Закон сохранения электрического заряда	1				Библиотека ЦОК https://m.edsoo.ru/ff0a8ef6
35	Решение задач на применение свойств электрических зарядов	1				Библиотека ЦОК https://m.edsoo.ru/ff0a90cc
36	Электрический ток, условия его существования. Источники электрического тока	1				Библиотека ЦОК https://m.edsoo.ru/ff0a95a4
37	Действия электрического тока	1				Библиотека ЦОК https://m.edsoo.ru/ff0a96b2
38	Урок-исследование "Действие электрического поля на проводники и диэлектрики"	1		1		
39	Электрический ток в металлах, жидкостях и газах	1				Библиотека ЦОК https://m.edsoo.ru/ff0a9838
40	Электрическая цепь и её составные части	1				
41	Сила тока. Лабораторная работа "Измерение и регулирование силы"	1		0.5		Библиотека ЦОК https://m.edsoo.ru/ff0a8bd6

	тока"					
42	Электрическое напряжение. Вольтметр. Лабораторная работа "Измерение и регулирование напряжения"	1		0.5		Библиотека ЦОК https://m.edsoo.ru/ff0a9e14
43	Сопротивление проводника. Удельное сопротивление вещества	1				Библиотека ЦОК https://m.edsoo.ru/ff0aa738
44	Лабораторная работа "Зависимость электрического сопротивления проводника от его длины, площади поперечного сечения и материала"	1		1		Библиотека ЦОК https://m.edsoo.ru/ff0aa738
45	Зависимость силы тока от напряжения. Закон Ома для участка цепи	1				Библиотека ЦОК https://m.edsoo.ru/ff0aa44a
46	Лабораторная работа "Исследование зависимости силы тока, идущего через резистор, от сопротивления резистора и напряжения на резисторе"	1		1		Библиотека ЦОК https://m.edsoo.ru/ff0aa04e
47	Последовательное и параллельное соединения проводников	1				
48	Лабораторная работа "Проверка правила сложения напряжений при последовательном соединении двух резисторов"	1		1		Библиотека ЦОК https://m.edsoo.ru/ff0aaa58
49	Лабораторная работа "Проверка правила для силы тока при параллельном соединении	1		1		Библиотека ЦОК https://m.edsoo.ru/ff0aad1e

	резисторов"					
50	Решение задач на применение закона Ома для различного соединения проводников	1				Библиотека ЦОК https://m.edsoo.ru/ff0aaf8a
51	Работа и мощность электрического тока. Закон Джоуля-Ленца	1				Библиотека ЦОК https://m.edsoo.ru/ff0ab124
52	Лабораторная работа "Определение работы и мощности электрического тока"	1		1		Библиотека ЦОК https://m.edsoo.ru/ff0ab3e0
53	Электрические цепи и потребители электрической энергии в быту. Короткое замыкание	1				Библиотека ЦОК https://m.edsoo.ru/ff0ab660
54	Подготовка к контрольной работе по теме "Электрические заряды. Заряженные тела и их взаимодействия. Постоянный электрический ток"	1				Библиотека ЦОК https://m.edsoo.ru/ff0abd2c
55	Контрольная работа по теме "Электрические заряды. Заряженные тела и их взаимодействия. Постоянный электрический ток"	1	1			Библиотека ЦОК https://m.edsoo.ru/ff0abea8
56	Постоянные магниты, их взаимодействие	1				
57	Урок-исследование "Изучение полей постоянных магнитов"	1		1		Библиотека ЦОК https://m.edsoo.ru/ff0ac3d0
58	Магнитное поле. Магнитное поле Земли и его значение для жизни на	1				Библиотека ЦОК https://m.edsoo.ru/ff0ac0ba

	Земле					
59	Опыт Эрстеда. Магнитное поле электрического тока Магнитное поле катушки с током	1				Библиотека ЦОК https://m.edsoo.ru/ff0ac1d2
60	Применение электромагнитов в технике. Лабораторная работа "Изучение действия магнитного поля на проводник с током"	1		0.5		Библиотека ЦОК https://m.edsoo.ru/ff0ac74a
61	Электродвигатель постоянного тока. Использование электродвигателей в технических устройствах и на транспорте. Лабораторная работа "Конструирование и изучение работы электродвигателя"	1				Библиотека ЦОК https://m.edsoo.ru/ff0ac86c
62	Опыты Фарадея. Закон электромагнитной индукции. Правило Ленца	1				
63	Электрогенератор. Способы получения электрической энергии. Электростанции на возобновляемых источниках энергии	1				
64	Подготовка к контрольной работе по теме "Электрические и магнитные явления"	1				
65	Контрольная работа по теме "Электрические и магнитные явления"	1	1			Библиотека ЦОК https://m.edsoo.ru/ff0acb14

66	Резервный урок. Работа с текстами по теме "Тепловые явления"	1				Библиотека ЦОК https://m.edsoo.ru/ff0acc5e
67	Промежуточная аттестация. Итоговая контрольная работа.	1	1			Библиотека ЦОК https://m.edsoo.ru/ff0acdc6
68	Резервный урок. Работа с текстами по теме "Магнитные явления"	1				
ОБЩЕЕ КОЛИЧЕСТВО ЧАСОВ ПО ПРОГРАММЕ		68	5	14.5		

9 КЛАСС

№ п/п	Тема урока	Количество часов			Дата изучения	Электронные цифровые образовательные ресурсы
		Всего	Контрольные работы	Практические работы		
1	Механическое движение. Материальная точка	1				
2	Система отсчета. Относительность механического движения	1				Библиотека ЦОК https://m.edsoo.ru/ff0ad474
3	Входная контрольная работа. Равномерное прямолинейное движение	1	1			Библиотека ЦОК https://m.edsoo.ru/ff0ad19a
4	Неравномерное прямолинейное движение. Средняя и мгновенная скорость	1				
5	Прямолинейное равноускоренное движение. Ускорение	1				Библиотека ЦОК https://m.edsoo.ru/ff0ad8d4
6	Скорость прямолинейного равноускоренного движения. График скорости	1				
7	Лабораторная работа "Определение ускорения тела при равноускоренном движении по наклонной плоскости"	1		1		Библиотека ЦОК https://m.edsoo.ru/ff0adb18
8	Свободное падение тел. Опыты Галилея	1				
9	Равномерное движение по	1				Библиотека ЦОК

	окружности. Период и частота обращения. Линейная и угловая скорости					https://m.edsoo.ru/ff0ae176
10	Центростремительное ускорение	1				
11	Первый закон Ньютона. Вектор силы	1				Библиотека ЦОК https://m.edsoo.ru/ff0ae612
12	Второй закон Ньютона. Равнодействующая сила	1				Библиотека ЦОК https://m.edsoo.ru/ff0ae72a
13	Третий закон Ньютона. Суперпозиция сил	1				Библиотека ЦОК https://m.edsoo.ru/ff0ae982
14	Решение задач на применение законов Ньютона	1				Библиотека ЦОК https://m.edsoo.ru/ff0aeb6c
15	Сила упругости. Закон Гука	1				Библиотека ЦОК https://m.edsoo.ru/ff0aeca2
16	Решение задач по теме «Сила упругости»	1				
17	Лабораторная работа «Определение жесткости пружины»	1		1		Библиотека ЦОК https://m.edsoo.ru/ff0aee28
18	Сила трения	1				Библиотека ЦОК https://m.edsoo.ru/ff0af738
19	Решение задач по теме «Сила трения»	1				Библиотека ЦОК https://m.edsoo.ru/ff0afa26
20	Лабораторная работа "Определение коэффициента трения скольжения"	1		1		Библиотека ЦОК https://m.edsoo.ru/ff0af8be
21	Решение задач по теме "Законы Ньютона. Сила упругости. Сила трения"	1				Библиотека ЦОК https://m.edsoo.ru/ff0afb8e
22	Сила тяжести и закон всемирного	1				Библиотека ЦОК

	тяготения. Ускорение свободного падения					https://m.edsoo.ru/ff0af044
23	Урок-конференция "Движение тел вокруг гравитационного центра (Солнечная система). Галактики"	1		1		
24	Решение задач по теме "Сила тяжести и закон всемирного тяготения"	1				Библиотека ЦОК https://m.edsoo.ru/ff0af5f8
25	Первая космическая скорость. Невесомость и перегрузки	1				Библиотека ЦОК https://m.edsoo.ru/ff0af33c
26	Равновесие материальной точки. Абсолютно твёрдое тело. Равновесие твёрдого тела с закреплённой осью вращения. Момент силы. Центр тяжести	1				Библиотека ЦОК https://m.edsoo.ru/ff0afe36
27	Равновесие материальной точки. Абсолютно твёрдое тело. Равновесие твёрдого тела с закреплённой осью вращения. Момент силы. Центр тяжести	1				
28	Решение задач по теме "Момент силы. Центр тяжести"	1				Библиотека ЦОК https://m.edsoo.ru/ff0b02b4
29	Подготовка к контрольной работе по теме "Механическое движение. Взаимодействие тел"	1				Библиотека ЦОК https://m.edsoo.ru/ff0b0408
30	Контрольная работа по теме "Механическое движение. Взаимодействие тел"	1	1			Библиотека ЦОК https://m.edsoo.ru/ff0b06ec

31	Импульс тела. Импульс силы. Закон сохранения импульса. Упругое и неупругое взаимодействие	1				Библиотека ЦОК https://m.edsoo.ru/ff0b07fa
32	Решение задач по теме "Закон сохранения импульса"	1				Библиотека ЦОК https://m.edsoo.ru/ff0b096c
33	Урок-конференция "Реактивное движение в природе и технике"	1		1		
34	Механическая работа и мощность	1				Библиотека ЦОК https://m.edsoo.ru/ff0b0a84
35	Работа силы тяжести, силы упругости и силы трения	1				Библиотека ЦОК https://m.edsoo.ru/ff0b0db8
36	Лабораторная работа «Определение работы силы трения при равномерном движении тела по горизонтальной поверхности»	1		1		
37	Связь энергии и работы. Потенциальная энергия	1				
38	Кинетическая энергия. Теорема о кинетической энергии	1				Библиотека ЦОК https://m.edsoo.ru/ff0b0c32
39	Закон сохранения энергии в механике	1				
40	Лабораторная работа «Изучение закона сохранения энергии»	1		1		Библиотека ЦОК https://m.edsoo.ru/ff0b12fe
41	Колебательное движение и его характеристики	1				Библиотека ЦОК https://m.edsoo.ru/ff0b1858
42	Затухающие колебания. Вынужденные колебания. Резонанс	1				Библиотека ЦОК https://m.edsoo.ru/ff0b20f0
43	Математический и пружинный	1				

	маятники					
44	Урок-исследование «Зависимость периода колебаний от жесткости пружины и массы груза»	1		1		Библиотека ЦОК https://m.edsoo.ru/ff0b197a
45	Превращение энергии при механических колебаниях	1				
46	Лабораторная работа «Определение частоты и периода колебаний пружинного маятника»	1		1		Библиотека ЦОК https://m.edsoo.ru/ff0b1aec
47	Лабораторная работа «Проверка независимости периода колебаний груза, подвешенного к нити, от массы груза»	1		1		Библиотека ЦОК https://m.edsoo.ru/ff0b197a
48	Механические волны. Свойства механических волн. Продольные и поперечные волны	1				Библиотека ЦОК https://m.edsoo.ru/ff0b21fe
49	Урок-конференция "Механические волны в твёрдом теле. Сейсмические волны"	1		1		
50	Звук. Распространение и отражение звука	1				
51	Урок-исследование "Наблюдение зависимости высоты звука от частоты"	1		1		
52	Громкость звука и высота тона. Акустический резонанс	1				
53	Урок-конференция "Ультразвук и инфразвук в природе и технике"	1		1		Библиотека ЦОК https://m.edsoo.ru/ff0b23ca

54	Подготовка к контрольной работе по теме "Законы сохранения. Механические колебания и волны"	1				Библиотека ЦОК https://m.edsoo.ru/ff0b25f0
55	Контрольная работа по теме "Законы сохранения. Механические колебания и волны"	1	1			
56	Электромагнитное поле. Электромагнитные волны	1				Библиотека ЦОК https://m.edsoo.ru/ff0b2abe
57	Свойства электромагнитных волн	1				
58	Урок-конференция "Шкала электромагнитных волн. Использование электромагнитных волн для сотовой связи"	1		1		Библиотека ЦОК https://m.edsoo.ru/ff0b2fe6
59	Урок-исследование "Изучение свойств электромагнитных волн с помощью мобильного телефона"	1		1		Библиотека ЦОК https://m.edsoo.ru/ff0b2c6c
60	Решение задач на определение частоты и длины электромагнитной волны	1				
61	Электромагнитная природа света. Скорость света. Волновые свойства света	1				Библиотека ЦОК https://m.edsoo.ru/ff0b31d0
62	Источники света. Прямолинейное распространение света. Затмения Солнца и Луны	1				Библиотека ЦОК https://m.edsoo.ru/ff0b3658
63	Закон отражения света. Зеркала. Решение задач на применение закона отражения света	1				Библиотека ЦОК https://m.edsoo.ru/ff0b38c4

64	Преломление света. Закон преломления света	1				Библиотека ЦОК https://m.edsoo.ru/ff0b3aea
65	Полное внутреннее отражение света. Использование полного внутреннего отражения в оптических световодах	1				Библиотека ЦОК https://m.edsoo.ru/ff0b3c5c
66	Лабораторная работа "Исследование зависимости угла преломления светового луча от угла падения на границе "воздух-стекло""	1		1		
67	Урок-конференция "Использование полного внутреннего отражения: световоды, оптоволоконная связь"	1		1		
68	Линзы. Оптическая сила линзы	1				Библиотека ЦОК https://m.edsoo.ru/ff0b3f2c
69	Построение изображений в линзах	1				Библиотека ЦОК https://m.edsoo.ru/ff0b444a
70	Лабораторная работа "Определение фокусного расстояния и оптической силы собирающей линзы"	1		1		Библиотека ЦОК https://m.edsoo.ru/ff0b4206
71	Урок-конференция "Оптические линзовые приборы"	1		1		Библиотека ЦОК https://m.edsoo.ru/ff0c0a7e
72	Глаз как оптическая система. Зрение	1				Библиотека ЦОК https://m.edsoo.ru/ff0b4684
73	Урок-конференция "Дефекты зрения. Как сохранить зрение"	1		1		
74	Разложение белого света в спектр. опыты Ньютона. Сложение спектральных цветов. Дисперсия	1				Библиотека ЦОК https://m.edsoo.ru/ff0c0f4c

	света					
75	Лабораторная работа "Опыты по разложению белого света в спектр и восприятию цвета предметов при их наблюдении через цветные фильтры"	1		1		Библиотека ЦОК https://m.edsoo.ru/ff0c0e2a
76	Урок-практикум "Волновые свойства света: дисперсия, интерференция и дифракция"	1		1		
77	Опыты Резерфорда и планетарная модель атома	1				Библиотека ЦОК https://m.edsoo.ru/ff0c12a8
78	Постулаты Бора. Модель атома Бора	1				
79	Испускание и поглощение света атомом. Кванты. Линейчатые спектры	1				Библиотека ЦОК https://m.edsoo.ru/ff0c144c
80	Урок-практикум "Наблюдение спектров испускания"	1		1		Библиотека ЦОК https://m.edsoo.ru/ff0c1550
81	Радиоактивность и её виды	1				Библиотека ЦОК https://m.edsoo.ru/ff0c1672
82	Строение атомного ядра. Нуклонная модель	1				Библиотека ЦОК https://m.edsoo.ru/ff0c18ac
83	Радиоактивные превращения. Изотопы	1				Библиотека ЦОК https://m.edsoo.ru/ff0c1a14
84	Решение задач по теме: "Радиоактивные превращения"	1				Библиотека ЦОК https://m.edsoo.ru/ff0c1b4a
85	Период полураспада	1				
86	Урок-конференция "Радиоактивные излучения в природе, медицине,	1		1		Библиотека ЦОК https://m.edsoo.ru/ff0c2126

	технике"					
87	Ядерные реакции. Законы сохранения зарядового и массового чисел	1				Библиотека ЦОК https://m.edsoo.ru/ff0c1c58
88	Энергия связи атомных ядер. Связь массы и энергии	1				Библиотека ЦОК https://m.edsoo.ru/ff0c1d7a
89	Решение задач по теме "Ядерные реакции"	1				
90	Реакции синтеза и деления ядер. Источники энергии Солнца и звёзд	1				Библиотека ЦОК https://m.edsoo.ru/ff0c1e88
91	Урок-конференция "Ядерная энергетика. Действия радиоактивных излучений на живые организмы"	1		1		
92	Подготовка к контрольной работе по теме "Электромагнитное поле. Электромагнитные волны. Квантовые явления"	1				Библиотека ЦОК https://m.edsoo.ru/ff0c223e
93	Контрольная работа по теме "Электромагнитное поле. Электромагнитные волны. Квантовые явления"	1	1			
94	Повторение, обобщение. Лабораторные работы по курсу "Взаимодействие тел"	1		1		Библиотека ЦОК https://m.edsoo.ru/ff0c245a
95	Повторение, обобщение. Решение расчетных и качественных задач по теме "Тепловые процессы"	1				Библиотека ЦОК https://m.edsoo.ru/ff0c2572

96	Промежуточная аттестация. Итоговая контрольная работа.	1	1			
97	Повторение, обобщение. Решение расчетных и качественных задач по теме "КПД электроустановок"	1				Библиотека ЦОК https://m.edsoo.ru/ff0c2b30
98	Повторение, обобщение. Лабораторные работы по курсу "Световые явления"	1		1		Библиотека ЦОК https://m.edsoo.ru/ff0c2c52
99	Повторение, обобщение. Работа с текстами по теме "Законы сохранения в механике"	1				Библиотека ЦОК https://m.edsoo.ru/ff0c2d6a
100	Повторение, обобщение. Работа с текстами по теме "Колебания и волны"	1				Библиотека ЦОК https://m.edsoo.ru/ff0c2e82
101	Повторение, обобщение. Работа с текстами по теме "Световые явления"	1				Библиотека ЦОК https://m.edsoo.ru/ff0c3044
102	Повторение, обобщение. Работа с текстами по теме "Квантовая и ядерная физика"	1				
ОБЩЕЕ КОЛИЧЕСТВО ЧАСОВ ПО ПРОГРАММЕ		102	5	27		

**УЧЕБНО-МЕТОДИЧЕСКОЕ ОБЕСПЕЧЕНИЕ
ОБРАЗОВАТЕЛЬНОГО ПРОЦЕССА
ОБЯЗАТЕЛЬНЫЕ УЧЕБНЫЕ МАТЕРИАЛЫ ДЛЯ УЧЕНИКА**

• Физика 7 класс/ Перышкин И.М., Гутник Е.М., Иванов А.И. и др.

Акционерное общество «Издательство «Просвещение»

Физика 8 класс/ Перышкин И.М., Гутник Е.М., Иванов А.И. и др.

Акционерное общество «Издательство «Просвещение»

Физика 9 класс/ Перышкин И.М., Гутник Е.М., Иванов А.И. и др.

Акционерное общество «Издательство «Просвещение»

МЕТОДИЧЕСКИЕ МАТЕРИАЛЫ ДЛЯ УЧИТЕЛЯ

.

**ЦИФРОВЫЕ ОБРАЗОВАТЕЛЬНЫЕ РЕСУРСЫ И РЕСУРСЫ СЕТИ
ИНТЕРНЕТ**

Библиотека ЦОК <https://m.edsoo.ru/>

Контрольные работы 7 класс

Контрольная работа по темам: «Механическое движение», «Масса, плотность», «Вес тела», «Графическое изображение сил», «Силы».

Вариант 1	Вариант 2
<p>1. Сколько времени займет спуск на парашюте с высоты 2 км при скорости равномерного движения 5м/с?</p> <p>2. Если плотно прижать ружьё к плечу, то скорость движения ружья при отдаче уменьшается. Почему?</p> <p>3. В два одинаковых сосуда налили воду и подсолнечное масло равной массы. Какая жидкость займёт больший объём? Почему?</p> <p>4. Спортсмен массой 80кг поднял штангу массой 150кг. С какой силой он давит на пол?</p> <p>5. Определите плотность металлического бруска массой 949г и объемом 130 см³.</p>	<p>1. Автомобиль движется равномерно со скоростью 40 м/с в течение 0,5мин. Какой путь он прошел за это время?</p> <p>2. Почему пожарному трудно удерживать брандспойт, из которого бьет вода?</p> <p>3. На весах уравнивали два бруска – медный или алюминиевый. Какой из брусков имеет больший объем? Почему?</p> <p>4. Человек массой 70кг держит на плечах рюкзак массой 15кг. С какой силой он давит на пол?</p> <p>5. Рассчитайте плотность пробки массой 36г и объемом 150см³.</p>

Контрольная работа по теме «Давление твердых тел, жидкостей и газов»

Вариант 1	Вариант 2
<p>1. Электрические розетки прессуют из специальной массы (баркалитовой), действуя на нее с силой 37,5 кН. Площадь розетки 0,0075 м². Под каким давлением прессуют розетки?</p> <p>2. Водолаз в жестком скафандре может погружаться на глубину 250 м. Определите давление воды в море на этой глубине.</p> <p>3. На первом этаже здания школы барометр показывает давление 755 мм рт. ст., а на крыше — 753 мм рт. ст. Определите высоту здания.</p> <p>4. Определите силу, действующую на поверхность площадью 4 м², если произведенное ей давление равно 2 Н/см².</p> <p>5. Высота столба воды в сосуде 8 см. Какой должна быть высота столба керосина, налитого</p>	<p>1. Человек вбивает гвоздь в стенку, ударяя по нему молотком с силой 30 Н. Какое давление производит гвоздь при ударе, если площадь его острия 0,01 см²?</p> <p>2. Керосин оказывает давление 1600 Па на дно бака. Какова высота керосина в баке?</p> <p>3. Каково показание барометра на уровне высоты Останкинской телебашни (540 м), если внизу башни атмосферное давление 760 мм рт. ст.?</p> <p>4. Какова сила давления на каждый квадратный сантиметр поверхности тела водолаза, находящегося на глубине 50 м?</p> <p>5. Определите давление, оказываемое на грунт гранитной плитой объемом 10 м³, если площадь ее основания равна 4 м².</p>

<p>в сосуд вместо воды, чтобы давление на дно осталось прежним?</p> <p>6. Какова масса трактора, если опорная площадь его гусениц равна $1,3 \text{ м}^2$, а давление на почву составляет 40 кПа?</p> <p>7. Рассчитайте высоту бетонной стены, производящей на фундамент давление 220 кПа.</p> <p>8. Определите среднюю силу давления, действующую на стенку аквариума длиной 25 см и высотой 20 см, если он полностью заполнен водой.</p> <p>9. В цилиндрический сосуд высотой 40 см налиты ртуть и вода. Определите давление, которое оказывают жидкости на дно сосуда, если их объемы равны.</p>	<p>6. Гидростат глубинной бомбы установлен на давление 2 МПа. На какой глубине взорвется эта бомба?</p> <p>7. В цилиндрический сосуд высотой 20 см налиты керосин и вода. Определите давление, которое оказывают жидкости на дно сосуда, если их объемы равны.</p> <p>8. Манометр, установленный на подводной лодке для измерения давления воды, показывает 250 Н/см^2. Какова глубина погружения лодки? С какой силой давит вода на крышку люка площадью $0,45 \text{ м}^2$?</p> <p>9. Кирпичная стена производит на фундамент давление 40 кПа. Какова ее высота?</p>
---	---

Контрольная работа по теме «Работа и мощность. Энергия»

Вариант №1

- Из колодца глубиной 5 м подняли ведро массой 8 кг . Совершённая при этом работа равна?
- Под действием силы тяги 1000 Н автомобиль движется с постоянной скоростью 72 км/ч . Мощность двигателя равна?
- Выберите, какие приспособления относятся к простым механизмам.
 - А. Ворот
 - Б. Наклонная плоскость
- Рычаг находится в равновесии под действием двух сил. Первая сила 4 Н имеет плечо 15 см . Определите, чему равна вторая сила, если её плечо 10 см .
- Птичка колибри массой 2 г при полёте достигает скорости 180 км/ч . Определите энергию движения этой птички.
- Как изменится потенциальная энергия груза массой 200 кг , поднимаемого с платформы на высоту 5 м относительно поверхности Земли? Высота платформы 1 м .
- Установите соответствие между физическими величинами и их единицами измерения в СИ. К каждой позиции первого столбца подберите соответствующую позицию второго.

Физическая величина

- А) Энергия
- Б) Плечо силы
- В) Мощность

Единицы измерения в СИ

- 1) Килограмм
- 2) Метр
- 3) Ватт
- 4) Ньютон
- 5) Джоуль

8. Груз, масса которого 1,2 кг, ученик равномерно переместил по наклонной плоскости длиной 0,8 м на высоту 0,2 м. При этом перемещении сила, направленная параллельно наклонной плоскости, была равна 5 Н. Какой результат должен получить ученик при вычислении КПД установки?

Вариант №2

1. Резец станка при обработке детали преодолевает силу сопротивления 500 Н, перемещаясь равномерно на 18 см. Совершаемая при этом работа равна?

2. Машина равномерно поднимает тело массой 10 кг на высоту 20 м за 40 с. Чему равна её мощность?

3. Какое из утверждений верно?

- А. Простые механизмы дают выигрыш в силе
- Б. Простые механизмы дают выигрыш в работе

4. На рычаг действуют две силы, плечи которых равны 0,1 м и 0,3 м. Сила, действующая на короткое плечо, равна 3 Н. Чему должна быть равна сила, действующая на длинное плечо, чтобы рычаг был в равновесии?

5. Как следует изменить массу тела, чтобы его кинетическая энергия увеличилась в 9 раз?

6. Спортсмен поднял штангу массой 75 кг на высоту 2 м. Какой потенциальной энергией обладает штанга?

7. Установите соответствие между физическими величинами и формулами, по которым эти величины определяются. К каждой позиции первого столбца подберите соответствующую позицию второго.

Физические величины

- А) Механическая работа
- Б) Момент силы
- В) Кинетическая энергия

Формулы

- 1) mgh
- 2) $F \cdot s$
- 3) $m \cdot g$
- 4) $mv^2/2$
- 5) $F \cdot l$

8. Вычислите КПД рычага, с помощью которого груз массой 145 кг равномерно подняли на высоту 6 см. При этом к длинному плечу рычага была приложена сила 500 Н, а точка приложения этой силы опустилась на 0,3 м.

Промежуточная аттестация. Итоговая контрольная работа за курс 7 класса

Вариант 1

Уровень А

1. Что из перечисленного относится к физическим явлениям?

- 1) молекула 2) километр 3) плавление 4) золото

2. Автомобиль за 0,5 час проехал 36 км. Какова скорость автомобиля?

- 1) 18 км/ч 2) 72 км/час 3) 72 м/с 4) 18 м/с

3. Что является основной единицей массы в Международной системе единиц?

- 1) килограмм 2) ватт 3) ньютон 4) джоуль

4. В каком случае в физике утверждение считается истинным?


- 1) если оно широко известно 2) если оно опубликовано
 3) если оно высказано авторитетными учеными
 4) если оно многократно экспериментально проверено разными учеными

5. Тело сохраняет свой объем и форму. В каком агрегатном состоянии находится вещество, из которого состоит тело?

- 1) в жидком 2) в твердом 3) в газообразном 4) может находиться в любом состоянии

6. Каков объем жидкости в мензурке?

- 1) 20 см³ 2) 35 см³ 3) 25 см³ 4) определить невозможно



7. Тело объемом 20 см³ состоит из вещества плотностью 7,3 г/см³.

Какова масса тела?

- 1) 0,146 г 2) 2,74г 3) 146 г 4) 2,74 кг

8. С какой силой притягивается к земле тело массой 5кг?

- 1) 5Н 2) 49Н 3) 5кг 4) 49кг

9. Какое давление оказывает столб воды высотой 10м?

- 1) 9,8 Па 2) 9800 Па 3) 1000 Па 4) 98 000 Па

10. Три тела одинакового объема полностью погружены в одну и ту же жидкость. Первое тело оловянное, второе тело свинцовое, третье тело деревянное. На какое из них действует меньшая архимедова сила?

- 1) на оловянное 2) на свинцовое 3) на деревянное
4) на все три тела архимедова сила действует одинаково

Уровень В

11. Установите соответствие между учёными и явлениями, изучением которых они занимались. К каждой позиции первого столбца подберите соответствующую позицию второго и запишите в таблицу выбранные цифры под соответствующими буквами.

УЧЁНЫЕ

ФИЗИЧЕСКИЕ ЯВЛЕНИЯ

А) Архимед

1) механическое движение

Б) Блез Паскаль

2) растяжение и сжатие тел

В) Исаак Ньютон

3) поведение тел в жидкости

4) движение частиц, взвешенных в жидкости

5) передача давления жидкостями

А	Б	В

Уровень С

12. Плоскодонная баржа получила пробоину в дне площадью 200 см^2 . С какой силой нужно давить на пластырь, которым закрывают отверстие, чтобы сдержать напор воды на глубине 1,8 м?

13. Чугунный шар имеет массу 4,2 кг при объёме 700 см^3 . Определите. Имеет ли этот шар внутри полость? Плотность чугуна 7000 кг/м^3

Вариант 2

Уровень А

1. Что из перечисленного является физической величиной?

- 1) мощность 2) железо 3) молния 4) килограмм

2. Мотоциклист двигался в течении 20 мин со скоростью 36 км/ч. Сколько километров проехал мотоциклист?

- 1) 720 км 2) 12 км 3) 1,8 км 4) 33,3 км

3. Что является основной единицей силы в Международной системе единиц?

- 1) паскаль 2) ватт 3) ньютон 4) джоуль

4. Как изучались перечисленные явления?

а) затмение Солнца, Луна находится между Солнцем и Землёй;

б) затмение Луны, Луна попадает в тень Земли.

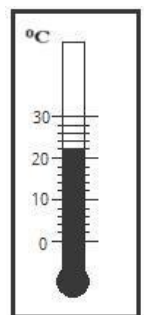
1) а, б – в процессе наблюдения 2) а – в процессе наблюдения, б – опытным путём

3) а – опытным путём, б – в процессе наблюдения 4) а, б – опытным путём

5. Тело сохраняет свой объем, но изменяет форму. В каком агрегатном состоянии находится вещество, из которого оно состоит?

- 1) в жидком 2) в твердом 3) в газообразном 4) может находиться в любом состоянии

6. Определите показания термометра



- 1) 20 °C 2) 22 °C 3) 21 °C 4) 24 °C

7. Тело объемом 30 см^3 состоит из вещества плотностью 7 г/см^3 .

Какова масса тела?

- 1) 2,3 г 2) 4,3г 3) 210г 4) 210кг

8. Чему равен вес тела массой 15 кг?

- 1) 15 кг 2) 15 Н 3) 150 Н 4) 150 кг

9. Какое давление на пол оказывает ковер весом 100 Н и площадью 5 м² ?

- 1) 20 Па 2) 500 Па 3) 150 Па 4) 0,05 Па

10. Тело весом 50 Н полностью погружено в жидкость. Вес вытесненной жидкости 30 Н. Какова сила Архимеда, действующая на тело?

- 1) 50Н 2) 30Н 3) 20Н 4) 80Н

Уровень В

11. Установите соответствие между устройствами и физическими явлениями, на которых основано их действие. К каждой позиции первого столбца подберите соответствующую позицию второго и запишите в таблицу выбранные цифры под соответствующими буквами.

УСТРОЙСТВА

ФИЗИЧЕСКИЕ ЯВЛЕНИЯ

- А) Гидравлический пресс 1) механическое движение
- Б) Подводная лодка 2) действие атмосферы на находящиеся в ней тела.
- В) Поршневой гидравлический насос 3) действие жидкости на погружённое в неё тело
- 4) движение частиц, взвешенных в жидкости
- 5) передача давления жидкостями

А	Б	В

Уровень С

12. Определите давление, оказываемое на грунт бетонной плитой объёмом 10 м³, если площадь её основания равна 4 м². Плотность бетона 2600 кг/м³.

13. Объём тела 400 см³, а его вес 4 Н. Утонет ли это тело в воде? Плотность воды 1000 кг/м³.

Контрольные работы 8 класс

Входная контрольная работа по физике учени ____ 8 класса

Вариант 1. Уровень А.

1. В каких телах происходит диффузия?

- 1) только в газах; 2) только в жидкостях; 3) только в твердых телах; 4) в газах, жидкостях и твердых телах.
2. При равномерном движении за 2 минуты тело проходит путь, равный 240 см. Скорость тела равна
1) 0,02 м/с; 2) 1,2 м/с; 3) 2 м/с; 4) 4.8 м/с.
3. Изменится ли скорость движения тела, если действие других тел на него прекратится?
А) Не изменится; Б) Увеличится; В) Уменьшится.
4. Плотность серебра равна $10,5 \text{ г/см}^3$. Выразите ее в кг/м^3 .
А) 105 кг/м^3 ; Б) $0,105 \text{ кг/м}^3$; В) 10500 кг/м^3 ; Г) 1050 кг/м^3 .
5. Выталкивающая сила рассчитывается по формуле...
А) $p=grh$; Б) $F=gr_{ж}v_{т}$; В) $F=gm$; Г) $F=pS$.
6. Когда тело тонет?
А) если $F_a=mg$; Б) если $F_a>mg$; В) если $F_a<mg$;
7. Из колодца глубиной 5 м подняли ведро массой 8 кг. Совершенная при этом работа равна
А) 1,6 Дж; Б) 16 Дж; В) 40 Дж; Г) 400 Дж.

Уровень В

8. Установите соответствие между физическими величинами и их единицами измерения в СИ.

ФИЗИЧЕСКАЯ ВЕЛИЧИНА	ЕДИНИЦЫ ИЗМЕРЕНИЯ
А) Энергия	1) Килограмм
Б) Плечо силы	2) Метр
В) Мощность	3) Ватт
4) Ньютон	5) Джоуль

А	Б	В

9. Алюминиевый брусок массой 0,27 кг опущен в спирт. Чему равна действующая на брусок архимедова сила? ($\rho_{\text{спирта}}=800 \text{ кг/м}^3$, $\rho_{\text{алюминия}}=2700 \text{ кг/м}^3$).

Входная контрольная работа по физике

учени ___ 8 класса

Вариант 2.

Уровень А.

1. В каких телах диффузия при одинаковых температурах происходит быстрее?
1) в газах; 2) в жидкостях; 3) в твердых телах; 4) во всех одинаково.
2. За какое время велосипедист проедет 360 м, двигаясь со скоростью 18 км/ч.
1) 20 с; 2) 36 с; 3) 72 с; 4) 1800 с
3. Куда наклоняются пассажиры относительно автобуса, когда он поворачивает налево
А) прямо по ходу автобуса; Б) Налево; В) Направо.
4. Плотность мрамора 2700 кг/м^3 . Выразите его в г/см^3 .
А) 27 г/см^3 ; Б) $0,27 \text{ г/см}^3$; В) $2,7 \text{ г/см}^3$; Г) $0,027 \text{ г/см}^3$.
5. Формула, по которой можно вычислить выталкивающую силу, - это...
А) $F=pS$; Б) $p=grh$; В) $F=kl$; Г) $F=gr_{ж}v_{т}$.
6. Какое должно быть выполнено условие, чтобы летательный аппарат мог взлететь?
А) $F_{\text{тяж}}=F_a$; Б) $F_{\text{тяж}}>F_a$; В) $F_{\text{тяж}}<F_a$;
7. Машина равномерно поднимает тело массой 10 кг на высоту 20 м за 40 с. Чему равна ее мощность?
А) 50 Вт; Б) 5 Вт; В) 500 Вт; Г) 0,5 Вт.

Уровень В

8. Установите соответствие между физическими величинами и формулами, по которым эти величины определяются.

ФИЗИЧЕСКАЯ ВЕЛИЧИНА	ФОРМУЛЫ
А) Механическая работа	1) mgh
Б) Момент сил	2) Fs
В) Кинетическая энергия	3) mg
4) $\frac{mv^2}{2}$	5) $F \cdot L$

А	Б	В

9. Медный цилиндр массой 3,56 кг опущен в бензин. Определите действующую на него архимедову силу ($\rho_{\text{бензина}}=710 \text{ кг/м}^3$, $\rho_{\text{меди}}=8900 \text{ кг/м}^3$).

Контрольная работа

«Тепловые явления. Изменение агрегатных состояний вещества»

ВАРИАНТ № 1

Уровень А

1. Теплообмен путем конвекции может осуществляться

- 1) в газах, жидкостях и твердых телах;
- 2) в газах и жидкостях;
- 3) только в газах;
- 4) только в жидкостях.

2. Перед горячей штамповкой латунную болванку массой 3 кг нагрели от 15 до 75 °С.

Какое количество теплоты получила болванка? Удельная теплоемкость латуни 380 Дж/кг·°С.

- 1) 47 кДж;
- 2) 68,4 кДж;
- 3) 760 кДж;
- 4) 5700 кДж.

3. Если при атмосферном давлении 100 кПа конденсируется 200 г паров некоторого вещества при 100°С, то в окружающую среду передается количество теплоты, равное 460 кДж.

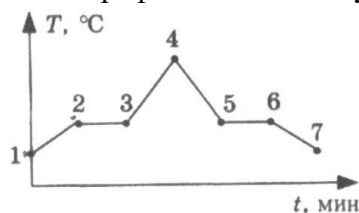
Удельная теплота парообразования этого вещества приблизительно равна

- 1) $2,1 \cdot 10^8 \text{ Дж/кг}$;
- 2) $2,1 \cdot 10^7 \text{ Дж/кг}$;
- 3) $2,3 \cdot 10^6 \text{ Дж/кг}$;
- 4) $2,3 \cdot 10^4 \text{ Дж/кг}$.

4. На рисунке представлен график зависимости температуры нафталина от времени при нагревании и охлаждении. В начальный момент нафталин находился в твердом состоянии.

Какой участок графика соответствует процессу отвердевания нафталина?

- 1) 2-3;
- 2) 3-4;
- 3) 4-5;
- 4) 5-6.



5. С помощью психрометрической таблицы определите разницу в показаниях сухого и влажного термометра, если температура в помещении 20°C , а относительная влажность воздуха 44% .

Психрометрическая таблица										
Показания сухого термометра, $^{\circ}\text{C}$	Разность показаний сухого и влажного термометра									
	0	1	2	3	4	5	6	7	8	9
	Относительная влажность, %									
10	100	88	76	65	54	44	34	24	14	5
12	100	89	78	68	57	48	38	29	20	11
14	100	89	79	70	60	51	42	34	25	17
16	100	90	81	71	62	54	45	37	30	22
18	100	91	82	73	65	56	49	41	34	27
20	100	91	83	74	66	59	51	44	37	30
22	100	92	83	76	68	61	54	47	40	34

- 1) 7°C ;
- 2) 20°C ;
- 3) 27°C ;
- 4) 13°C .

6. Тепловая машина за цикл получает от нагревателя 50 Дж и совершает полезную работу, равную 100 Дж. Чему равен КПД тепловой машины?

- 1) 200% ;
- 2) 67% ;
- 3) 50% ;
- 4) Такая машина невозможна.

Уровень В

7. Установите соответствие между физическими величинами и формулами, по которым эти величины определяются. К каждой позиции первого столбца подберите соответствующую позицию второго и запишите выбранные цифры под соответствующими буквами.

ФИЗИЧЕСКАЯ ВЕЛИЧИНА

- А) Количество теплоты, необходимое для кипения жидкости;
- Б) Удельная теплота сгорания топлива;
- В) Количество теплоты, выделяемое при охлаждении вещества.

ФОРМУЛА

- 1) $L \cdot m$;
- 2) $q \cdot \Delta t$;
- 3) $Q/m \cdot \Delta t$;
- 4) $c \cdot m \cdot \Delta t$;
- 5) Q/m .

Уровень С

8. Какое количество теплоты необходимо для плавления 3 кг льда, имеющего начальную температуру -20°C , и нагрева образовавшейся воды до температуры кипения? Удельная теплоёмкость воды равна 4200 Дж/(кг $^{\circ}\text{C}$), удельная теплота плавления льда 330 кДж/кг.

9. В сосуд с водой, имеющей температуру 0°C , впустили 1 кг стогоградусного водяного пара. Через некоторое время в сосуде установилась температура 20°C . Определите массу воды, первоначально находящейся в сосуде.

Контрольная работа Тепловые явления.

Изменение агрегатных состояний вещества

ВАРИАНТ № 2

Уровень А

1. Благодаря какому виду теплопередачи (преимущественно) в летний день нагревается вода в водоемах?

- 1) Конвекция;
- 2) Теплопроводность;
- 3) Излучение;
- 4) Конвекция и излучение.

2. Металлический брусок массой 400 г нагревают от 20°C до 25°C . Определите удельную теплоёмкость металла, если на нагревание затратили 760 Дж теплоты.

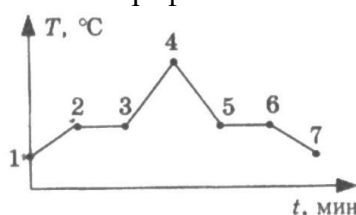
- 1) 0,38 Дж/(кг °С);
- 2) 760 Дж/(кг °С);
- 3) 380 Дж/(кг °С);
- 4) 2000 Дж/(кг °С).

3. Какое количество теплоты потребуется для плавления 40 г белого чугуна, нагретого до температуры плавления? Удельная теплота плавления белого чугуна $14 \cdot 10^4$ Дж/кг

- 1) 3,5 кДж;
- 2) 5,6 кДж;
- 3) 10 кДж;
- 4) 18 кДж.

4. На рисунке изображен график зависимости температуры нафталина от времени при нагревании и охлаждении. В начальный момент времени нафталин находился в твердом состоянии. Какая из точек графика соответствует началу отвердевания нафталина?

- 1) 2;
- 2) 4;
- 3) 5;
- 4) 6.



5. Относительная влажность воздуха в помещении равна 60%. Разность показаний сухого и влажного термометра 4°C. Пользуясь психрометрической таблицей, определите показания сухого термометра.

Психрометрическая таблица										
Показания сухого термометра, °С	Разность показаний сухого и влажного термометра									
	0	1	2	3	4	5	6	7	8	9
Относительная влажность, %										
10	100	88	76	65	54	44	34	24	14	5
12	100	89	78	68	57	48	38	29	20	11
14	100	89	79	70	60	51	42	34	25	17
16	100	90	81	71	62	54	45	37	30	22
18	100	91	82	73	65	56	49	41	34	27
20	100	91	83	74	66	59	51	44	37	30
22	100	92	83	76	68	61	54	47	40	34

- 1) 18°C;
- 2) 14°C;
- 3) 10°C;
- 4) 6°C.

6. Чему равен коэффициент полезного действия паровой турбины, если полученное ею количество теплоты равно 1000 МДж, а полезная работа составляет 400 МДж?

- 1) 4%;
- 2) 25%;
- 3) 40%;
- 4) 60%.

Уровень В

7. Установите соответствие между физическими величинами и формулами, по которым эти величины определяются. К каждой позиции первого столбца подберите соответствующую позицию второго и запишите выбранные цифры под соответствующими буквами.

ФИЗИЧЕСКАЯ ВЕЛИЧИНА

- А) Количество теплоты, необходимое для кипения жидкости;
- Б) Удельная теплота сгорания топлива;
- В) Количество теплоты, выделяемое при

ФОРМУЛА

- 1) Q/m ;
- 2) $q \cdot \Delta t$;
- 3) $c \cdot m \cdot \Delta t$;
- 4) $Q/m \cdot \Delta t$;

охлаждении вещества.

5) $L \cdot t$.

Уровень С

8. В стакан калориметра, содержащий 177 г воды, опустили кусок льда, имеющий температуру 0°C. Начальная температура калориметра с водой равна 45°C. После того, как лёд растаял, температура воды и калориметра стала равна 5°C. Определите массу льда. Теплоёмкостью калориметра пренебречь. Удельная теплоёмкость воды равна 4200 Дж/(кг °C), удельная теплота плавления льда 330 кДж/кг.

9. На газовой плите испаряют воду массой 3 кг, имеющую температуру 25°C. Газ какой массы нужно для этого сжечь? Потери энергии не учитывать. Удельная теплота сгорания газа 44 МДж/кг, удельная теплоёмкость воды равна 4200 Дж/(кг °C), удельная теплота парообразования воды 2,3 МДж/кг.

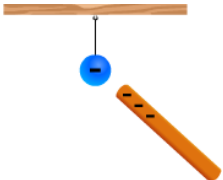
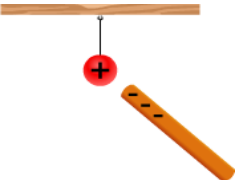
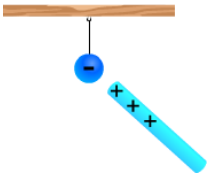
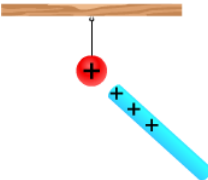
Контрольная работа

потеме: «Электрические заряды. Заряженные тела и их взаимодействия».

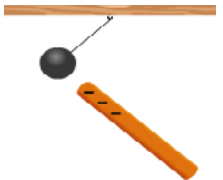
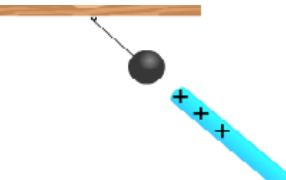
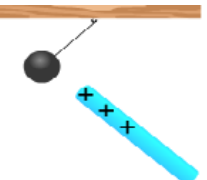
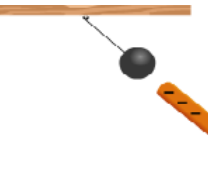
Постоянный электрический ток»

Вариант 1

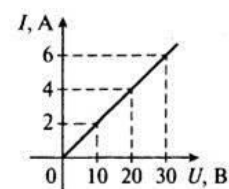
1. Определите, какое действие будет оказывать на электризованную палочку неподвижный шарик в случаях, изображенных на рисунках.

<p>А.</p> 	<p>Б.</p> 	<p>В.</p> 	<p>Г.</p> 
<p>1) шарик притянется к палочке 2) шарик оттолкнется от палочки</p>	<p>1) шарик притянется к палочке 2) шарик оттолкнется от палочки</p>	<p>1) шарик притянется к палочке 2) шарик оттолкнется от палочки</p>	<p>1) шарик притянется к палочке 2) шарик оттолкнется от палочки</p>

2. Определите знак заряда шариков, подвешенных нитях.

<p>А.</p> 	<p>Б.</p> 	<p>В.</p> 	<p>Г.</p> 
<p>1) положительный 2) отрицательный</p>	<p>1) положительный 2) отрицательный</p>	<p>1) положительный 2) отрицательный</p>	<p>1) положительный 2) отрицательный</p>

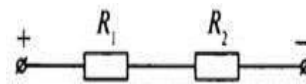
3. Нарисунке представлен график зависимости силы тока в проводе от напряжения на его концах. Пользуясь графиком, определит



е напряжение на проводнике при силе тока 3 А и рассчитайте сопротивление проводника.

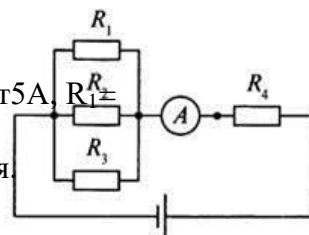
4. В цепь источника тока, дающего напряжение 6 В, включили кусок никелиновой проволоки длиной 25 см и сечением $0,1 \text{ мм}^2$. Какая сила тока установится в цепи? Удельное сопротивление никелина $0,4 \frac{\text{Ом} \cdot \text{мм}^2}{\text{м}}$.

5. Напряжение на проводнике R_1 равно 45 В (см. рис). При подключении к проводнику R_2 вольтметр показал 12 В. Определите сопротивление R_1 , если $R_2 = 40 \text{ Ом}$.



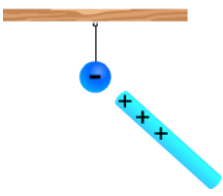
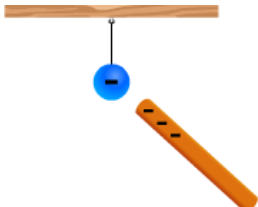
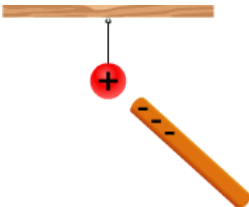
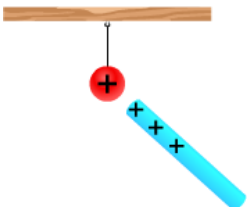
6. Какое количество теплоты выделит за 12 мин проволочная спираль с сопротивлением 23 Ом, если сила тока в цепи 3 А?

7. Используя схему электрической цепи, изображенной на рисунке, определите общее напряжение, если амперметр показывает 5 А, $R_1 = 2 \text{ Ом}$, $R_2 = 3 \text{ Ом}$, $R_3 = 6 \text{ Ом}$, $R_4 = 5 \text{ Ом}$. Контрольная работа по теме: «Электрические заряды. Заряженные тела и их взаимодействия. Постоянный электрический ток»

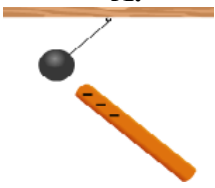
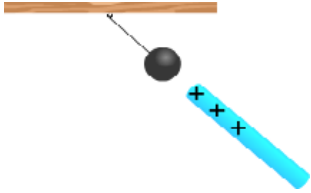
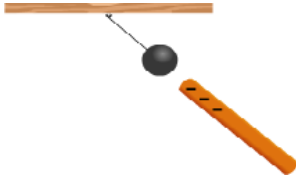
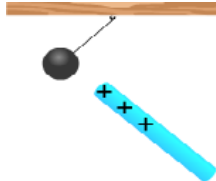


Вариант 2

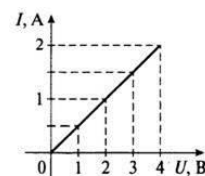
1. Определите, какое действие будет оказывать на электризованную палочку подвешенный шарик в случаях, изображенных на рисунках.

А.	Б.	В.	Г.
 1) шарик притянется к палочке 2) шарик оттолкнется от палочки	 1) шарик притянется к палочке 2) шарик оттолкнется от палочки	 1) шарик притянется к палочке 2) шарик оттолкнется от палочки	 1) шарик притянется к палочке 2) шарик оттолкнется от палочки

2. Определите знак заряда шариков, подвешенных нитях.

А.	Б.	В.	Г.
 1) положительный 2) отрицательный	 1) положительный 2) отрицательный	 1) положительный 2) отрицательный	 1) положительный 2) отрицательный

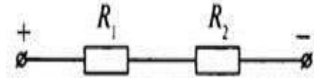
3. Нарисунке представлен график зависимости силы тока в проводнике от напряжения на его концах. Пользуясь графиком, определите напряжение на проводнике при силе тока 1,5 А и рассчитайте сопротивление



ение проводника.

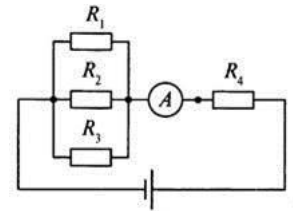
4. Определите напряжение на концах стального проводника длиной 140 см и площадью поперечного сечения $0,2 \text{ мм}^2$, если сила тока в проводнике 2,5 А. Удельное сопротивление стали $0,1 \text{ Ом} \cdot \text{мм}^2/\text{м}$.

5. При измерении напряжения на проводнике R_2 оно оказалось равным 30 В (см. рис). При подключении к проводнику R_1 вольтметр показал 50 В. Определите сопротивление R_2 , если $R_1 = 25 \text{ Ом}$.



6. Какое количество теплоты выделит за 10 мин проволочная спираль с сопротивлением 15 Ом, если сила тока в цепи 2 А?

7. Используя схему электрической цепи, изображенной на рисунке, определите общее напряжение, если амперметр показывает 10 А, $R_1 = 4 \text{ Ом}$, $R_2 = 6 \text{ Ом}$, $R_3 = 12 \text{ Ом}$, $R_4 = 10 \text{ Ом}$.




Контрольная работа по теме: «Электрические и магнитные явления»

Вариант 1

1. Постоянными магнитами называют...

- А. Тела, сохраняющие намагниченность длительное время.
- Б. Тела, изготовленные из железа и стали.
- В. Любые тела, находящиеся в магнитном поле.

2. По рисунку определите, будут ли взаимодействовать два плоских магнита. А. Не взаимодействуют.



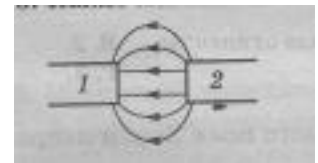
- Б. Притягиваются.
- В. Отталкиваются.

3. По рисунку определите, будут ли взаимодействовать два плоских магнита. А. Не взаимодействуют.



- Б. Притягиваются.
- В. Отталкиваются.

4. Какие магнитные полюса изображены на рисунке? А. 1-северный, 2-южный.

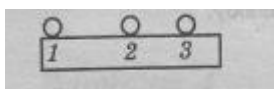


Б. 1-южный, 2-южный.

В. 1-южный, 2-северный.

Г. 1-северный, 2-северный.

5. В какой точке действия магнитана стальной шарик сильнее всего?



А. 1

Б. 2

В. 3

Г. Везде одинаково.

6. Северный магнитный полюс расположен около... А. Северного географического полюса.

Б. Южного географического полюса

7. Время разряда молнии равно $0,005$ с. Сила тока в канале молнии около 20 кА. Какой заряд проходит по каналу молнии?

8. В сеть последовательно включены электрическая лампочка и резистор. Сопротивление нити накала лампочки равно 10 Ом, а резистора 300 Ом. Каково напряжение на лампочке, если напряжение на резисторе равно 60 В? Определите общее сопротивление цепи.

9. В цепь параллельно включены два одинаковых прибора, на которых имеется надпись: « 5 А, 180 В». Определите максимально допустимую мощность этих электроприборов, и общее сопротивление такой цепи.

10. Рассчитайте сопротивление электрической плитки, если она при силе тока 6 А за 20 мин совершает работу 648 кДж.

Контрольная работа по теме: «Электрические и магнитные явления» Вариант 2

1. Полюсом магнита называют... А.

Середину магнита.

Б. То место магнита, где действие магнитного поля сильнее всего.

В. То место, где действие магнитного поля слабее всего.

2. По рисунку определите, как будут взаимодействовать два плоских магнита. А. Отталкиваются.

Б. Не взаимодействуют.

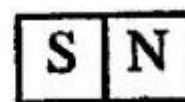
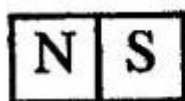
В. Притягиваются.



2. По рисунку определите, как будут взаимодействовать два плоских магнита. А. Отталкиваются.

Б. Не взаимодействуют.

В. Притягиваются.



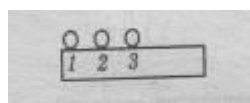
3. Какими магнитными полюсами образовано магнитное поле, изображено на рисунке?

А. Одноименными полюсами

Б. Разноименными полюсами.



4. В какой точке действие магнитана стальной шарик слабее всего?



А. Везде одинаково

Б. 1

В. 2

Г. 3

5. Южный магнитный полюс расположен около... А. Северного географического полюса.

Б. Южного географического полюса.

6. Сила тока, идущая по проводнику, равна 2 А. Какой заряд проходит по проводнику за 10 минут, если напряжение в цепи 2 В?

7. Проводники сопротивлением $R_1 = 4 \text{ Ом}$ и $R_2 = 6 \text{ Ом}$ соединены параллельно и подключены к напряжению 12 В. Определите общее сопротивление цепи, и силу тока на этом участке цепи.

8. Цепь состоит из двух последовательно соединенных проводников, сопротивление которых 10 Ом и 15 Ом. Сила тока в цепи 0,4 А. Найдите напряжение на каждом из проводников и общее напряжение.

9. Чему равно время прохождения тока по проводнику, если при силе тока в цепи 5 А совершается работа 540 кДж? Сопротивление проводника 24 Ом.

Промежуточная аттестация. Итоговая контрольная работа.

1 вариант

ИНСТРУКЦИЯ по выполнению итогового теста.

К каждому заданию дано несколько ответов, из которых только один верный ответ.

Часть А выберите один правильный ответ

1. Каким способом можно изменить внутреннюю энергию тела:

- а) нагреть его;
- б) поднять его на некоторую высоту;
- в) привести его в движение;
- г) изменить нельзя.

2. Какой вид теплопередачи сопровождается переносом вещества?

- а) теплопроводность;
- б) конвекция;
- в) излучение;
- г) всеми тремя способами перечисленными в ответах а-в.

3. Какая физическая величина обозначается буквой λ и имеет размерность Дж/кг?

- а) удельная теплоемкость;
- б) удельная теплота сгорания топлива;
- в) удельная теплота плавления;
- г) удельная теплота парообразования.

4. Испарение происходит...

- а) при любой температуре;
- б) при температуре кипения;
- в) при определенной температуре для каждой жидкости;
- г) при температуре выше $20 \text{ }^\circ\text{C}$.

5. Если тела взаимно притягиваются, то это значит, что они заряжены ...

а) отрицательно; б) разноименно; в) одноименно; г) положительно.

6. Сопротивление вычисляется по формуле:

а) $R=I/U$; б) $R = U/I$; в) $R = U \cdot I$; г) правильной формулы нет.

7. Из какого полюса магнита выходят линии магнитного поля?

- а) из северного;
- б) из южного;
- в) из обоих полюсов;
- г) не выходят.

8. Если электрический заряд движется, то вокруг него существует:

- а) только магнитное поле;
- б) только электрическое поле;
- в) и электрическое и магнитное поле;
- г) никакого поля нет.

9. Известно, что углы отражения световых лучей составляют 20° и 40° . Чему равны их углы падения?

- а) 40° и 80°
- б) 20° и 40°
- в) 30° и 60°
- г) 20° и 80°

10. Сколько фокусов имеет собирающая линза? Как они расположены относительно линзы?

- а) Два; на оптической оси симметрично по обе стороны линзы
- б) Один; на оптической оси перед линзой
- в) Один; на оптической оси за линзой
- г) Два; за линзой на разных расстояниях от нее

Часть В запишите формулу и выберите правильный ответ

11. Удельная теплоемкость кирпича $880 \text{ кДж} / (\text{кг} \cdot ^\circ\text{C})$. Какое количество теплоты потребуется для нагревания одного кирпича массой 1 кг на 1°C .

- а) 8800 Дж б) 880 кДж в) 880 Дж г) 88 Дж

12. Лампа, сопротивление нити накала которой 10 Ом , включена на 10 мин в цепь, где сила тока равна $0,1 \text{ А}$. Сколько энергии в ней выделилось.

- а) 1 Дж ; б) 6 Дж в) 60 Дж ; г) 600 Дж .

13. Сила тока в лампе $0,8 \text{ А}$, напряжение на ней 150 В . Какова мощность электрического тока в лампе? Какую работу он совершит за 2 мин ее горения?

- а) 120 Вт ; $22,5 \text{ кДж}$ б) $187,5 \text{ Вт}$; $14,4 \text{ кДж}$ в) 1875 Вт ; $14,4 \text{ кДж}$ г) 120 Вт ; $14,4 \text{ кДж}$

14. Два проводника сопротивлением $R_1 = 100 \text{ Ом}$ и $R_2 = 100 \text{ Ом}$ соединены параллельно. Чему равно их общее сопротивление?

- а) 60 Ом ; б) 250 Ом ; в) 50 Ом ; г) 100 .

15. Определите оптические силы линз, фокусные расстояния которых 25 см и 50 см .

- а) 0.04 дптр и 0.02дптр; б) 4 дптр и 2 дптр в) 1 дптри 2 дптр г) 4 дптр и 1 дптр

Часть С запишите решение задачи.

16. Сколько энергии израсходовано на нагревание воды массой 0,75 кг от 20 до 100 °С и последующее образование пара массой 250 г? (Удельная теплоемкость воды 4200 Дж/кг · °С, удельная теплота парообразования воды $2,3 \cdot 10^6$ Дж/кг)

17. Напряжение в железном проводнике длиной 100 см и сечением 1 мм² равно 0,3 В. Удельное сопротивление железа 0,1 Ом · мм²/м. Вычислите силу тока в стальном проводнике.

2 вариант

ИНСТРУКЦИЯ по выполнению итогового теста.

К каждому заданию дано несколько ответов, из которых только один верный ответ.

Часть А выберите один правильный ответ

1. Внутренняя энергия тел зависит от
 - а) Теплового движения частиц, из которых состоит тело
 - б) внутреннего строения
 - в) количества молекул, входящих в состав тела
 - г) потенциальной и кинетической энергии всех частиц тела
2. В вакууме энергия передается
 - а) излучением;
 - б) конвекцией;
 - в) теплопроводностью;
 - г) другим способом
3. Какая физическая величина обозначается буквой L и имеет размерность Дж/кг?
 - а) удельная теплоемкость;
 - б) удельная теплота сгорания топлива;
 - в) удельная теплота плавления;
 - г) удельная теплота парообразования.
4. При кристаллизации температура твёрдого тела ...
 - а) увеличивается;
 - б) уменьшается;
 - в) не изменяется;
 - г) зависит от массы тела.
5. Если заряженные тела взаимно отталкиваются, то это значит они заряжены ...
 - а) отрицательно;
 - б) разноименно;
 - в) одноименно;
 - г) положительно.

6. Сила тока вычисляется по формуле:

- а) $I = R/U$; б) $I = U/R$; в) $I = U \cdot R$; г) правильной формулы нет.

7. Что служит источником магнитного поля поля?

- а) электрический ток
б) положительный электрический заряд
в) отрицательный электрический заряд
г) любой электрический заряд

8. Какие места постоянного магнита оказывают наибольшее магнитное действие? Как их называют?

- а) их концы; южный и северный полюсы
б) находящиеся в середине магнита; полюсы
в) все места оказывают одинаковое действие
г) среди ответов нет правильного

9. Углы падения двух световых лучей на зеркальную поверхность равны 70° и 20° . Чему равны их углы отражения?

- а) 70° и 20°
б) 20° и 70°
в) 90° и 50°
г) 50° и 90°

10. Есть ли фокусы у рассеивающей линзы?

- а) Нет, так как она отклоняет световые лучи от оптической оси
б) Да, однако расположены они не симметрично относительно линзы
в) Да, но они – мнимые, находятся по обе стороны линзы на равных от нее расстояниях
г) Да, но один мнимый перед линзой на оптической оси

Часть В запишите формулу и выберите правильный ответ

11. Какое количество теплоты потребуется для нагревания 10 кг меди на 1°C ?

Удельная теплоемкость меди $400 \text{ Дж/кг} \cdot ^\circ\text{C}$.

- а) 40 Дж; б) 400 Дж; в) 4000 Дж; г) 40000 Дж.

12. Проводник обладает сопротивлением 80 Ом. Какое количество теплоты выделится в нем за 10 с при силе тока 0,3 А?

- а) 7,2 Дж; б) 72 Дж; в) 720 Дж; г) 72 кДж.

13. В проводнике сопротивлением 15 Ом сила тока равна 0,4 А. Какова мощность электрического тока в нем? Чему равна работа тока в этом проводнике, совершенная за 10 мин?

- а) 2,4 Вт; 1,44 кДж б) 6 Вт; 3,6 кДж в) 6 Вт; 60 Дж г) 2,4 Вт; 24 Дж

14. Два проводника сопротивлением $R_1 = 150 \text{ Ом}$ и $R_2 = 100 \text{ Ом}$ соединены последовательно. Чему равно их общее сопротивление?

- а) 60 Ом; б) 250 Ом; в) 50 Ом; г) 125 Ом.

15. Оптические силы линз равны 5 дптр и 8 дптр. Каковы их фокусные расстояния?

- а) 2 м и 1,25 м б) 20 см и 12,5 см в) 2 см и 1,25 см г) 20 м и 12,5 м

Часть С запишите решение задачи

16. Сколько энергии выделится при кристаллизации и охлаждении от температуры плавления $327\text{ }^{\circ}\text{C}$ до $27\text{ }^{\circ}\text{C}$ свинцовой пластины размером $2 \cdot 5 \cdot 10\text{ см}$? (Удельная теплота кристаллизации свинца $0,25 \cdot 10^5\text{ Дж/кг}$, удельная теплоемкость воды $140\text{ Дж/кг} \cdot ^{\circ}\text{C}$, плотность свинца 1130 кг/м^3).

17. Сила тока в стальном проводнике длиной 140 см и площадью поперечного сечения $0,2\text{ мм}^2$ равна 250 мА . Каково напряжение на концах этого проводника? Удельное сопротивление стали $0,15\text{ Ом} \cdot \text{мм}^2/\text{м}$.

Входная контрольная работа по физике для 9 класса

1 вариант

A1. Из молекул состоят :

- 1) только твёрдые тела
- 2) только жидкости
- 3) только газы
- 4) газы, жидкости и твёрдые тела

A2. Внутренняя энергия равномерно движущегося тела :

- 1) зависит только от скорости движения тела
- 2) зависит только от температуры тела
- 3) зависит от массы и температуры тела
- 4) не существует

A3. Тела выделяют энергию в процессах :

- 1) сгорания топлива, конденсации, охлаждения, кристаллизации
- 2) плавления и конденсации
- 3) сгорания топлива, нагревания и парообразования
- 4) парообразования, охлаждения и кристаллизации

A4. Температура тела изменяется в процессе;

- 1) плавления
- 2) нагревания
- 3) охлаждения и кристаллизации
- 4) кипения .

A5. На рисунке изображены два заряженных шарика.:



Направление силы, действующей на второй шарик со стороны первого правильно показывает стрелка

- 1) \downarrow 2) \rightarrow 3) \uparrow 4) \leftarrow

A6. Напряжение определяется:

- 1) зарядом, прошедшим по проводнику за 1 секунду
- 2) зарядом, движущимся по проводнику
- 3) работой тока по перемещению единичного положительного заряда
- 4) работой тока по перемещению всех зарядов

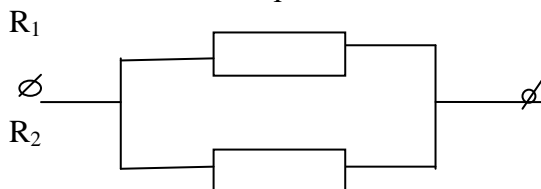
A7. Нагреватель подключен к напряжению 220 В , сила тока в спирали нагревателя равна 4 А . Сопротивление спирали нагревателя равно

- 1) 0,02 Ом 2) 0,8 Ом 3) 55 Ом 4) 880 Ом

A8. Человек, находившийся на расстоянии 4 м от плоского зеркала, переместился и оказался от зеркала на расстоянии 3 м. На сколько изменилось расстояние между человеком и его изображением?

- 1) 6 м 2) 4 м 3) 2 м 4) 1 м.

A9. Участок электрической цепи состоит из двух резисторов



Какая характеристика электрического тока постоянна на данном участке цепи :

- 1) напряжение;
2) сила тока;
3) сопротивление.

B1. Определите единицы измерения физических величин.:

Физическая величина

Единица измерения

- A) Количество теплоты
Б) Давление
B) Электрический заряд
4) Ватт

- 1) Вольт
2) Паскаль
3) Джоуль
5) Кулон

А	Б	В

C1. Сколько килограммов сухих дров нужно сжечь, чтобы нагреть 10 кг воды от 30°C до кипения. Потерями энергии пренебречь. Ответ представить целым числом граммов. (удельная теплоемкость воды $c=4200$ Дж/кг⁰С, удельная теплота сгорания сухих дров $q=10^7$ Дж/кг).

Входная контрольная работа по физике для 9 класса 2 вариант

A1. Молекулы непрерывно двигаются:

- 1) только в твёрдых телах
2) только в жидкостях
3) только в газах
4) в газах, жидкостях и твёрдых телах

A2. При увеличении скорости движения молекул тела температура тела:

- 1) не изменяется
2) увеличивается
3) уменьшается
4) может как увеличиваться, так и уменьшаться

A3. Тела получают энергию в процессах :

- 1) сгорания топлива
- 2) плавления и конденсации
- 3) плавления, нагревания и парообразования
- 4) нагревания и кристаллизации

A4. Температура тела не изменяется в процессе:

- 1) плавления ;
- 2) нагревания ;
- 3) охлаждения и конденсации ;
- 4) охлаждения

A5. На рисунке изображены два заряженных шарика.



Направление силы, действующей на второй шарик со стороны первого, правильно показывает стрелка :

- 1) ↓ ;
- 2) → ;
- 3) ↑ ;
- 4) ←

A6. Сила тока определяется:

- 1) зарядом, прошедшим по проводнику за 1 секунду
- 2) зарядом, движущимся по проводнику
- 3) работой тока по перемещению единичного положительного заряда
- 4) работой тока по перемещению всех зарядов

A7. Сила тока в фонарике равна 0,6 А, его электрическое сопротивление равно 15 Ом.


Напряжение в фонарике равно:

- 1) 0,004 В ;
- 2) 9 В ;
- 3) 25 В ;
- 4) 135 В .

A8. Человек удаляется от плоского зеркала. Его изображение в зеркале

1. остаётся на месте
2. приближается к зеркалу
3. удаляется от зеркала
4. становится нерезким

A9. Участок электрической цепи состоит из двух резисторов



$R_1 R_2$

Какая характеристика электрического тока постоянна на данном участке цепи :

- 1) напряжение;
- 2) сила тока;
- 3) сопротивление.

B1. Определите единицы измерения физических величин.:

Физическая величина

Единица измерения

- А) Мощность
- Б) Напряжение
- В) Энергия
- 4) Ватт

- 1) Вольт
- 2) Паскаль
- 3) Джоуль

А	Б	В

С1. Какую массу керосина нужно сжечь, чтобы за счёт выделившегося тепла нагреть 10 т чугуна на 10°C . Потерями тепла пренебречь. Ответ округлите до сотых числа (удельная теплота сгорания керосина $q=4,6 \cdot 10^7$ Дж/кг, удельная теплоемкость чугуна $c=540$ Дж/кг $^{\circ}\text{C}$)

Контрольная работа по теме «Механическое движение. Взаимодействие тел» 9 класс.

Вариант №1.

1. Координата тела изменяется по закону $x=5+2t$. Чему равна скорость тела? Начальная координата?
2. Определить для предыдущего задания координату тела через 10с после начала движения.
3. Скорость тела за 5с изменилась на 10м/с. Чему равно ускорение?
4. Уравнение движения имеет вид $x=100-2t+3t^2$. Чему равна начальная скорость и ускорение?
5. Тело при падении с некоторой высоты без начальной скорости при ударе имело скорость 15м/с. Найти с какой высоты упало тело.
6. Чему равен период часовой стрелки? Частота?
7. Под действием силы тело массой 300г приобрело ускорение 2м/с^2 . Какое ускорение приобретет тело массой 600г под действием такой же силы?
8. Чему равна масса тела, если под действием его силы тяжести пружина жесткостью 50Н/м удлинилась на 5см?
9. Тело движется по горизонтальной поверхности. Сила трения, действующая на тело, равна 2Н. чему равен коэффициент трения, если масса тела 400г?

Вариант №2.

1. Координата тела изменяется по закону $x=10t$. Чему равна скорость тела? Начальная координата?
2. Определить для предыдущего задания координату тела через 10с после начала движения.
3. Скорость тела через 4с после начала движения равна 20м/с. Чему равно ускорение тела?
4. Начальная координата тела 20м, оно движется ускоренно против направления оси x со скоростью 2м/с и ускорением 2м/с^2 . Написать уравнение движения.
5. Тело упало с высоты 80м без начальной скорости. Найти время падения.

6. Период обращения спицы колеса увеличился с 2с до 8с. Как изменилась частота обращения?
7. Тело массой 500г движется по горизонтальной поверхности с ускорением 5 м/с^2 . Чему равен вес тела?
8. Тело массой 500г подвесили к пружине жесткостью 100Н/м. чему равно удлинение пружины?
9. Тело движется по горизонтальной поверхности с коэффициентом трения 0,5. Чему равна масса тела, если на него действует сила трения равная 5Н?

Контрольная работа по физике 9 класс «Законы сохранения. Механические колебания и волны».

Вариант 1

- 1) Мальчик массой 22 кг, бегущий со скоростью 2,5 м/с, вскакивает сзади на неподвижную платформу массой 12 кг. Чему равна скорость платформы с мальчиком?
- 2) Тело массой 500 г брошено с высоты 10 м над поверхностью земли со скоростью 10 м/с. Какой будет кинетическая энергия в момент приземления?
- 3) Охотник выстрелил, находясь на расстоянии 170 м от лесного массива. Через сколько времени после выстрела охотник услышит эхо? Скорость звука в воздухе 340 м/с.
- 4) За одно и то же время первый математический маятник совершил 40 колебаний, а второй 60. Определите отношение длины первого маятника к длине второго.
- 5) Если мы смотрим издали на марширующих под духовой оркестр солдат, то нам кажется, что они идут не в такт с музыкой. Почему?

Вариант 2

- 1) Пластилиновый шарик массой 2 кг, движущийся со скоростью 6 м/с, налетает на неподвижный шарик 4 кг. Определите скорость их совместного движения.
- 2) Ящик начинает съезжать без трения с горки высотой 5 м. Определите скорость ящика в конце спуска.
- 3) Эхо, вызванное оружейным выстрелом, дошло до стрелка через 2 с после выстрела. Определите расстояние до преграды, от которого произошло отражение, если скорость звука в воздухе 340 м/с.
- 4) На некоторой планете период колебаний секундного земного математического маятника оказался равным 2 с. Определите ускорение свободного падения на этой планете.
- 5) Почему в пустом зрительном зале звук громче и раскатистее, чем в зале, заполненном публикой?

Контрольная работа по теме «Электромагнитное поле. Электромагнитные волны. Квантовые явления». 9 класс.

1- вариант.

1. Радиосигнал, посланный на Луну, возвратился на Землю через 2,56 с. Чему равно расстояние от Луны до Земли?
2. К какому виду излучений относится электромагнитная волна, длина волны которой 4 м? Чему равна частота этих излучений (в вакууме)?
3. Каков состав атомов: натрия $^{24}_{11}\text{Na}$, азота $^{14}_7\text{N}$?
4. Допишите ядерные реакции:
 $^6_3\text{Li} + ^1_1\text{H} \rightarrow ? + ^4_2\text{He}$
 $^{27}_{13}\text{Al} + ^1_0\text{n} \rightarrow ? + ^4_2\text{He}$
 $? + ^1_1\text{H} \rightarrow ^{22}_{11}\text{Na} + ^4_2\text{He}$
5. Найти энергию связи ядра бора $^{11}_5\text{B}$.

Контрольная работа по теме «Электромагнитное поле. Электромагнитные волны. Квантовые явления». 9 класс.

2- вариант

1. Расстояние от Земли до Венеры $2,3 \cdot 10^7$ км. Определите время, за которое радиосигнал, посланный на Венеру, отразится и будет принят на Земле.
2. Длина электромагнитной волны(в вакууме) равна 600 нм. Определите, чему равна её частота и к какому виду излучений она относится.
3. Каков состав атомов: алюминия $^{27}_{13}\text{Al}$, углерода $^{12}_6\text{C}$?
4. Допишите ядерные реакции:
 $^{55}_{25}\text{Mn} + ? \rightarrow ^{55}_{26}\text{Fe} + ^1_0\text{n}$
 $^2_1\text{H} + ? \rightarrow ^3_2\text{He} + ^1_0\text{n}$
 $? + ^1_1\text{H} \rightarrow ^3_2\text{He} + ^4_2\text{He}$
5. Найти энергию связи ядра гелия ^4_2He .

Промежуточная аттестация. Итоговая контрольная работа.

1 вариант

1. Дана зависимость координаты от времени при прямолинейном равноускоренном движении: $x = 6 + 4t - 3t^2$. Чему равны начальная скорость и ускорение? Записать уравнение скорости.
2. Автомобиль из состояния покоя за 10с достиг скорости 72км/ч. С каким ускорением двигался автомобиль? Какой путь пройдет он до полной остановки?

3. Какова сила тока в проводе, если однородное магнитное поле с магнитной индукцией 2 Тл действует на его участок длиной 50 см с силой 15 Н , угол между направлением линий магнитной индукции и проводником с током 90° .

4. Определите период звуковой волны если ее длина равна 4 м , а скорость распространения волн равна 340 м/с .

5. Определите число полных колебаний и период, если частота колебаний равна 8 Гц , а время равно 2 минуты.

2 вариант

1. Дана зависимость координаты от времени при прямолинейном равноускоренном движении: $x = 8 + 5t - 2t^2$. Чему равны начальная скорость и ускорение? Записать уравнение скорости.

2. Автомобиль из состояния покоя двигался с ускорением 2 м/с^2 5 минут. Какой достиг он скорости. Какой путь пройдет он?

3. Какова индукция магнитного поля, в котором на проводник с длиной активной части 10 см действует сила 40 мН ? Сила тока в проводнике 5 А , проводник расположен перпендикулярно линиям индукции магнитного поля

4. Определите частоту звуковой волны, если ее длина равна 5 м , а скорость распространения волн равна 340 м/с .

5. Определите частоту и число полных колебаний, если период колебаний равен 4 с , а время колебаний равно 5 минут.